



直方体や立方体 13

◎ 展開図と平行・垂直



日にち： 月 日

名まえ _____

1 下の立方体の展開図を組み立てます。

① 面ツに平行な面はどれですか。

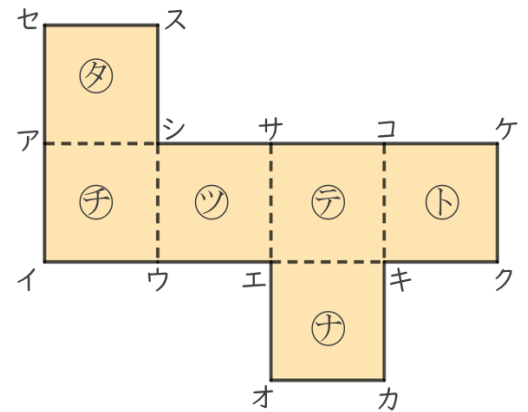
答え _____

② 面チに垂直な面はどれですか。

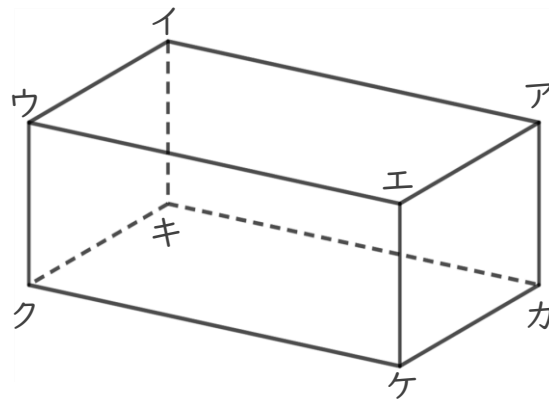
答え _____

③ 辺サエに垂直な面はどれですか。

答え _____



2 面と面の関係について調べましょう。



① 面キクケカと垂直な面を全部書きましょう。

答え _____

② 面イウエアと平行な面を書きましょう。

答え _____





直方体や立方体 11

◎ 展開図と平行・垂直



日にち： 月 日

名まえ _____

1 下の立方体の展開図を組み立てます。

① 面ツに平行な面はどれですか。

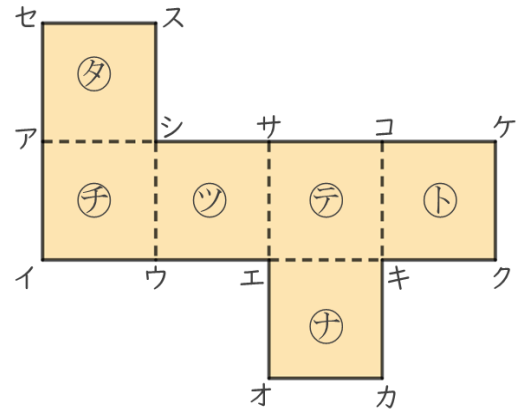
答え 面ト

② 面チに垂直な面はどれですか。

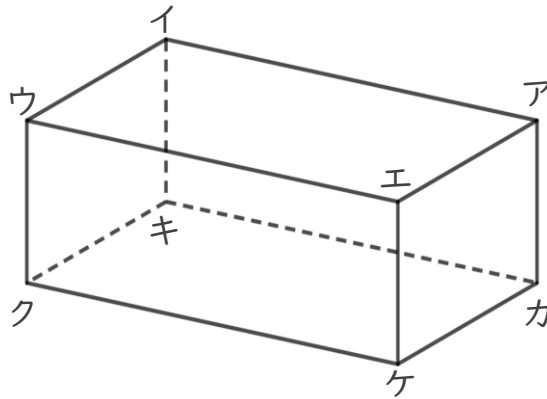
答え 面タ, 面ツ, 面ト, 面ナ

③ 辺サエに垂直な面はどれですか。

答え 面タ, 面ナ



2 面と面の関係について調べましょう。



① 面キクケカと垂直な面を全部書きましょう。

答え 面ウクキイ, 面ウクエケ, 面エケカア, 面イキカア

② 面イウエアと平行な面を書きましょう。

答え 面キクケカ

