



面積の  
はかり方と表し方 9

13

◎ 平方キロメートルの面積

日にち：            月            日

名まえ \_\_\_\_\_

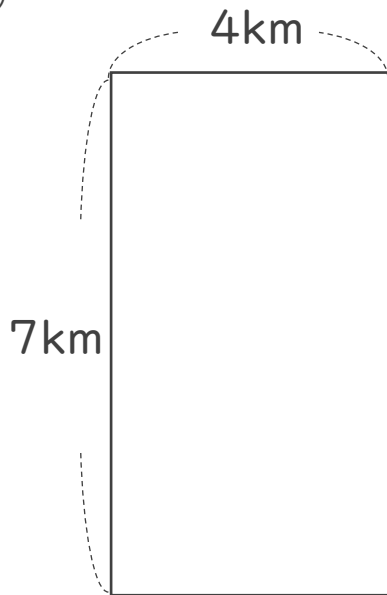
1 たて11m、横3mの布の面積は、何 $m^2$ でしょう。

式：

答え： \_\_\_\_\_

2 次の図形の面積を求めましょう。

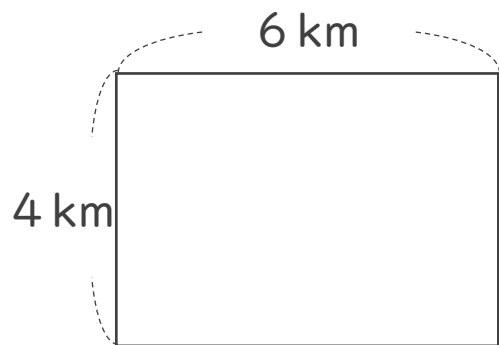
①



式：

答え： \_\_\_\_\_

②



式：

答え： \_\_\_\_\_



面積の  
はかり方と表し方 9

◎ 平方キロメートルの面積

13

日にち：            月            日

名まえ \_\_\_\_\_

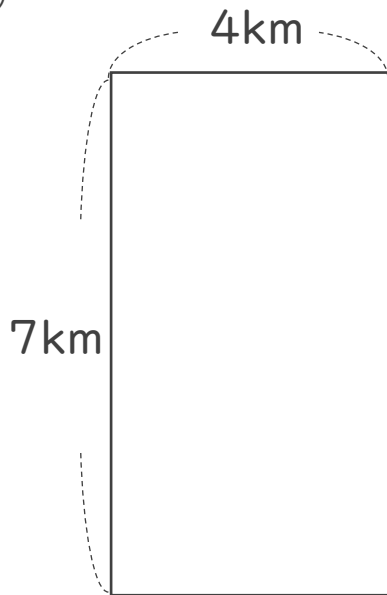
1 たて11m、横3mの布の面積は、何 $m^2$ でしょう。

$$\text{式： } 11 \times 3 = 33$$

答え： 33  $m^2$

2 次の図形の面積を求めましょう。

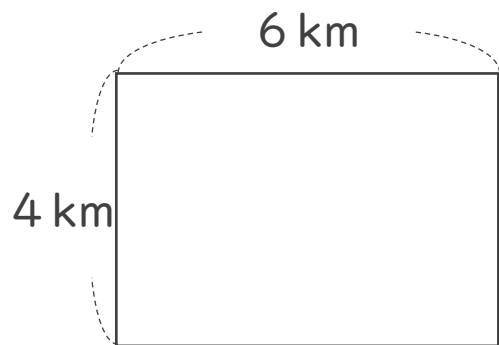
①



$$\text{式： } 7 \times 4 = 28$$

答え： 28  $km^2$

②



$$\text{式： } 4 \times 6 = 24$$

答え： 24  $km^2$