



# 垂直, 平行と 四角形 7

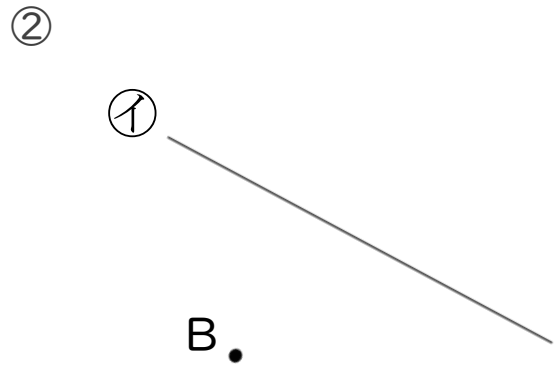
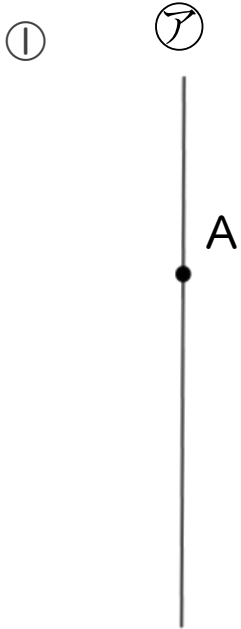
# 13

● 平行な直線をひく

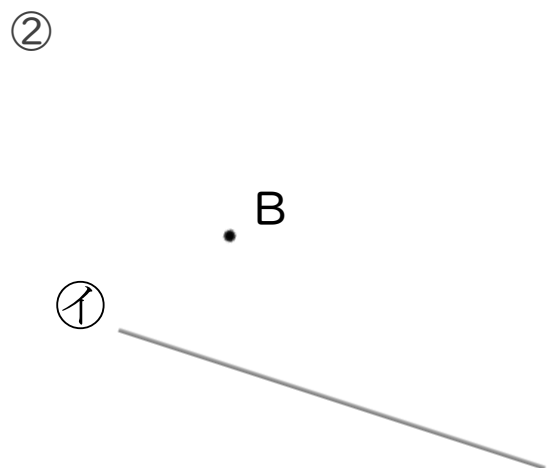
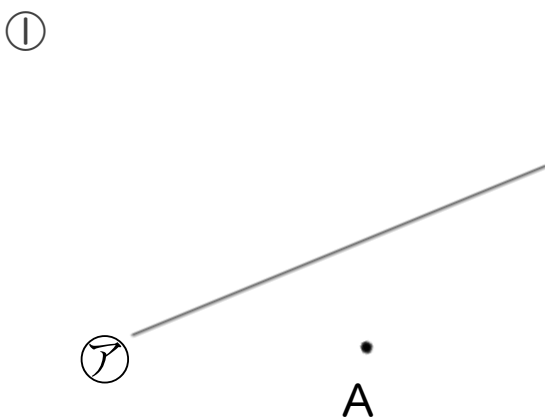
日にち：            月            日

名まえ \_\_\_\_\_

1 2まいの三角じょうぎを使って、次の点を通り、直線に垂直な直線をひきましょう。



2 2まいの三角じょうぎを使って、次の点を通り、直線に平行な直線をひきましょう。





# 垂直, 平行と 四角形 7

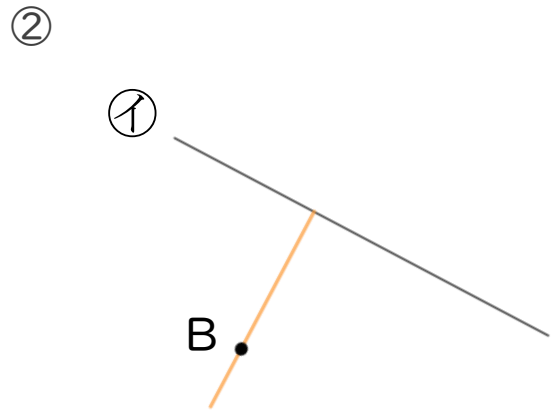
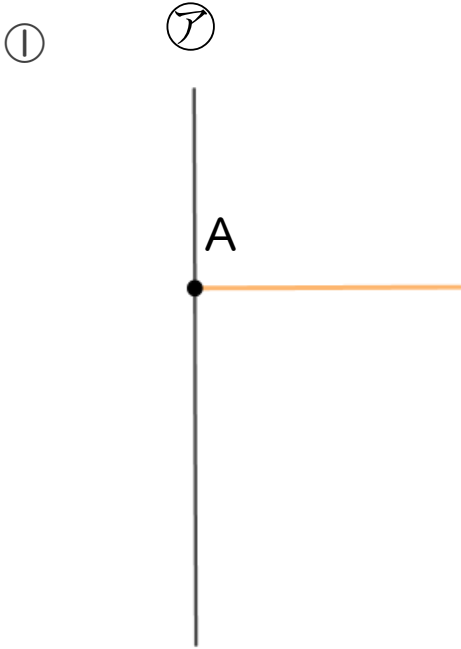
# 13

● 平行な直線をひく

日にち：            月            日

名まえ \_\_\_\_\_

1 2まいの三角じょうぎを使って、次の点を通り、直線に垂直な直線をひきましょう。



2 2まいの三角じょうぎを使って、次の点を通り、直線に平行な直線をひきましょう。

