

小数の表し方5

◎ 数直線の読みとり

13

日にち： 月 日

名まえ _____

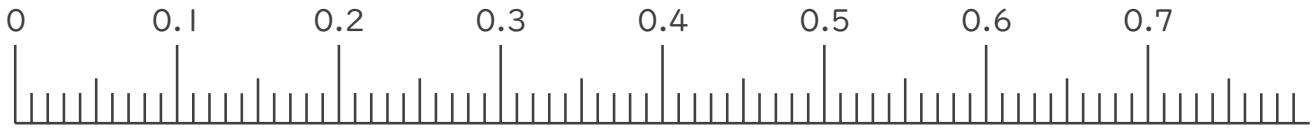
1. 次の小数を表すめもりに ↑ を書きましょう。

① 0.02

② 0.21

③ 0.35

④ 0.64

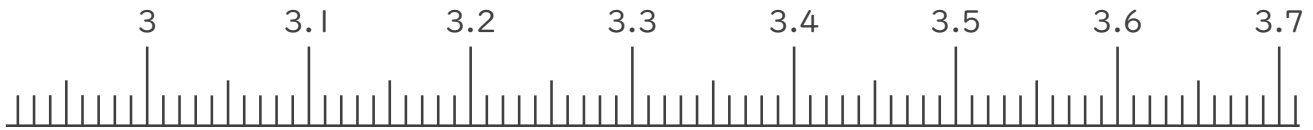


⑤ 3.02

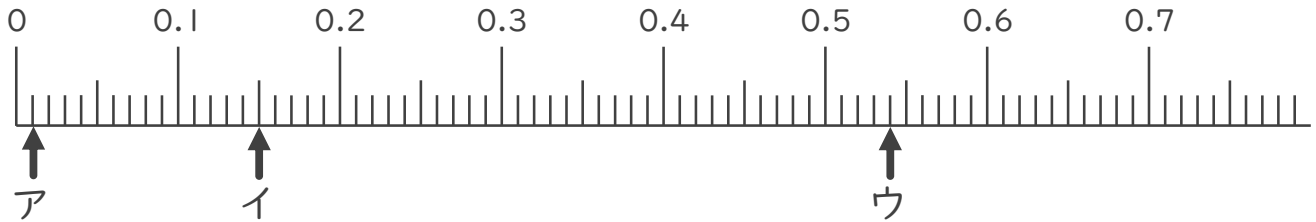
⑥ 3.16

⑦ 3.48

⑧ 3.62



2. 次の数直線でア～オが表す数を答えましょう。




ア _____

イ _____

ウ _____





小数の表し方5

◎ 数直線の読みとり

13

日にち： 月 日

名まえ _____

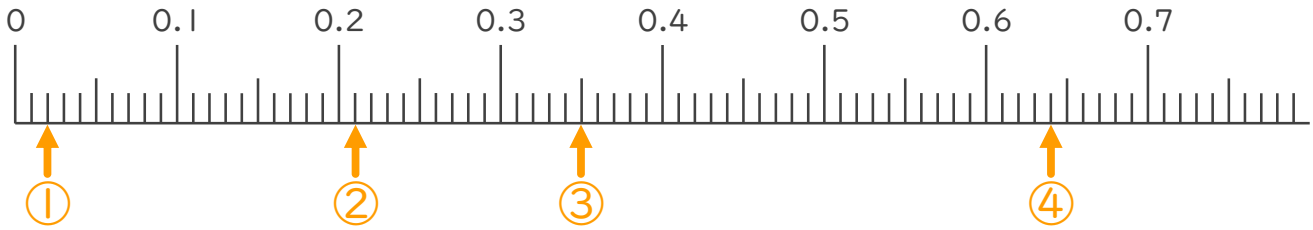
1. 次の小数を表すめもりに ↑ を書きましょう。

① 0.02

② 0.21

③ 0.35

④ 0.64

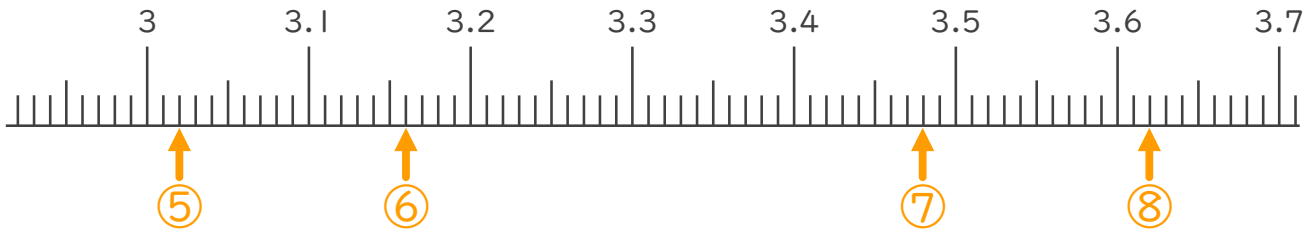


⑤ 3.02

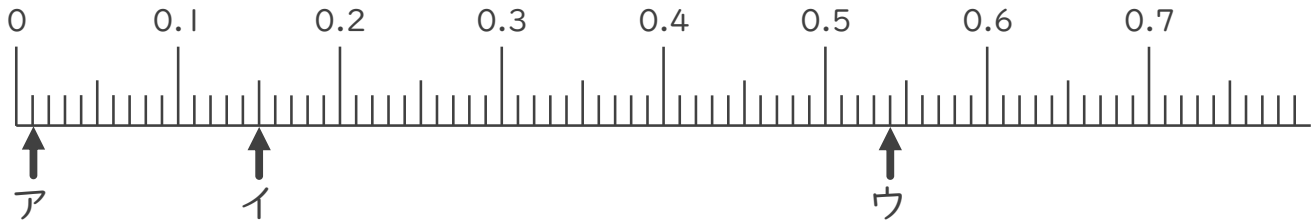
⑥ 3.16

⑦ 3.48

⑧ 3.62



2. 次の数直線でア～オが表す数を答えましょう。



ア 0.01

イ 0.15

ウ 0.54

