



小数の表し方5

◎ 数直線の読みとり



日にち： 月 日

名まえ _____

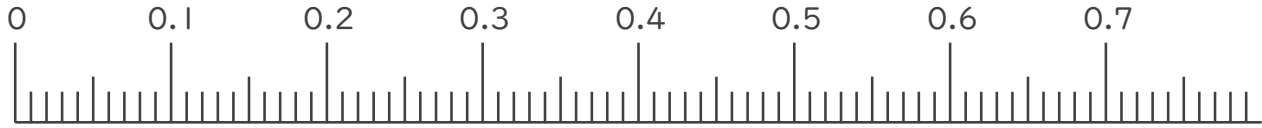
1. 次の小数を表すめもりに ↑ を書きましょう。

① 0.02

② 0.21

③ 0.35

④ 0.64

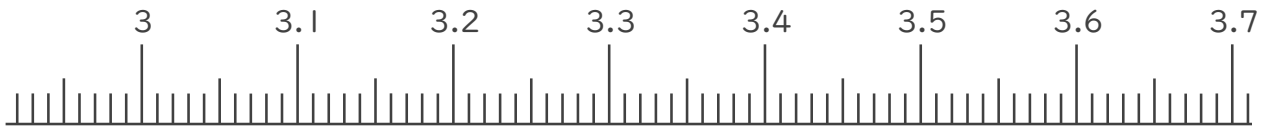


⑤ 3.02

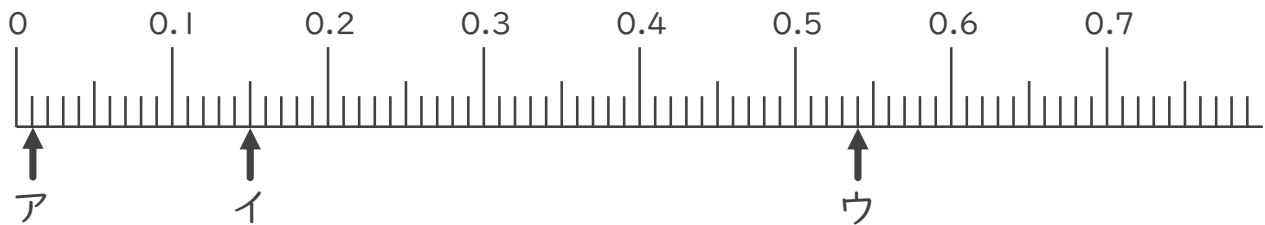
⑥ 3.16

⑦ 3.48

⑧ 3.62



2. 次の数直線でア～ウが表す数を答えましょう。



ア _____

イ _____

ウ _____



小数の表し方5

◎ 数直線の読みとり

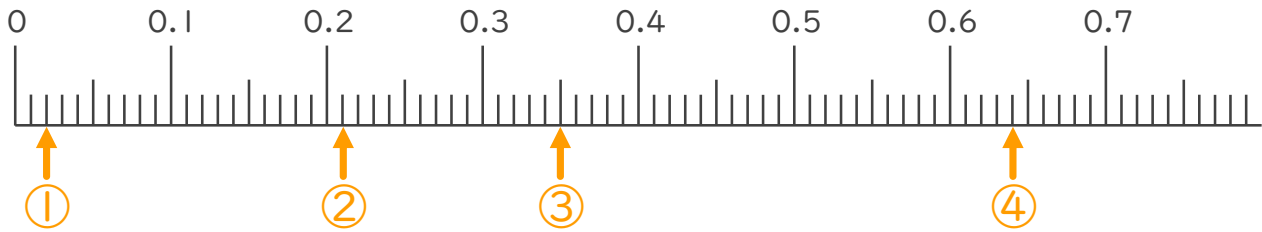
13

日にち： 月 日

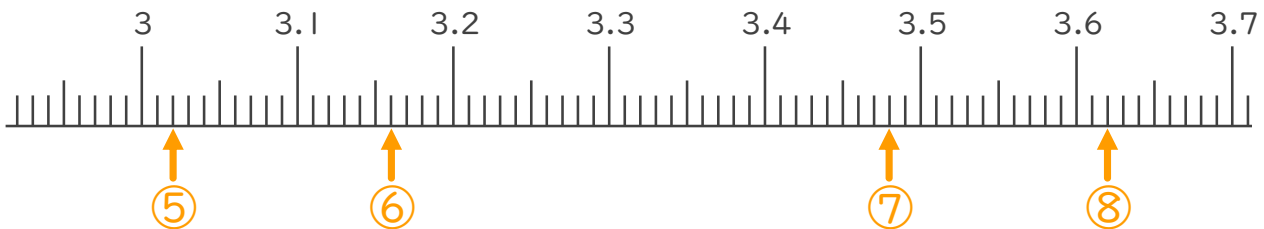
名まえ _____

1. 次の小数を表すめもりに ↑ を書きましょう。

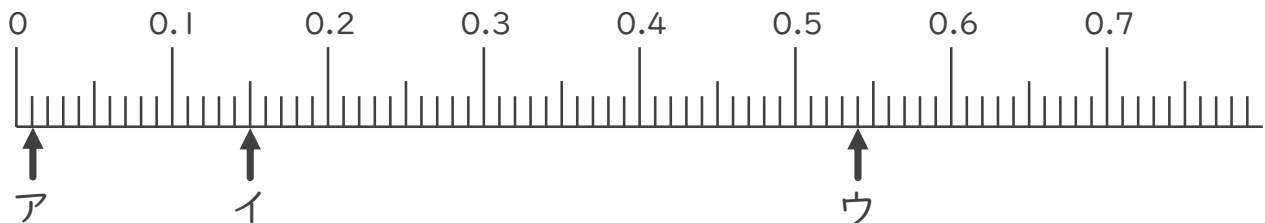
- ① 0.02 ② 0.21 ③ 0.35 ④ 0.64



- ⑤ 3.02 ⑥ 3.16 ⑦ 3.48 ⑧ 3.62



2. 次の数直線でア～ウが表す数を答えましょう。



ア 0.01

イ 0.15

ウ 0.54

