



# 小数の表し方8

⑨ 数直線の読みとり  
(小数第三位)

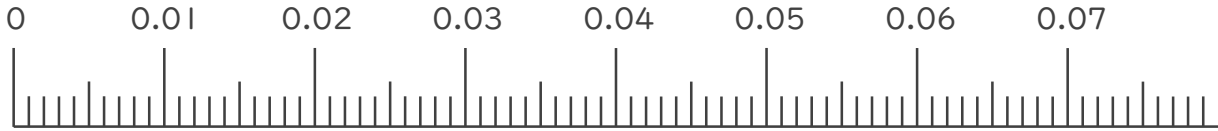


日にち： 月 日

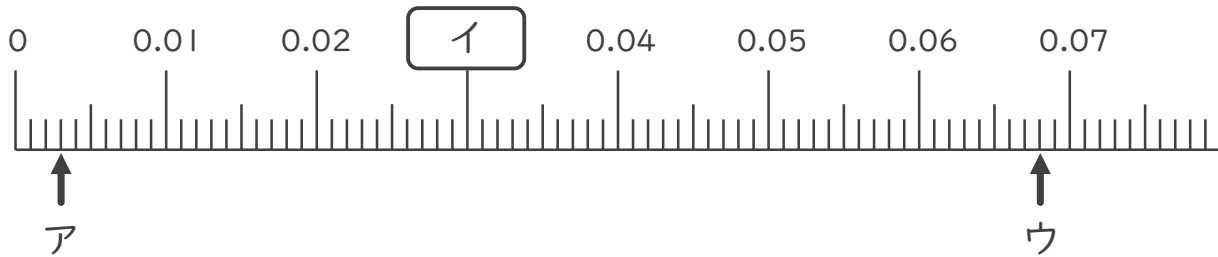
名まえ \_\_\_\_\_

1. 次の小数を表すめもりに ↑ を書きましょう。

- ① 0.003
- ② 0.024
- ③ 0.047
- ④ 0.065



2. 次の数直線でア～ウが表す数を答えましょう。



ア \_\_\_\_\_      イ \_\_\_\_\_      ウ \_\_\_\_\_

3. 次の問いに答えましょう。

① 0.023m は 0.001m を何こ集めたかさですか？

答え \_\_\_\_\_

② 0.008m は 0.001m を何こ集めたかさですか？

答え \_\_\_\_\_



# 小数の表し方8

㉞ 数直線の読みとり  
(小数第三位)



日にち：      月      日

名まえ

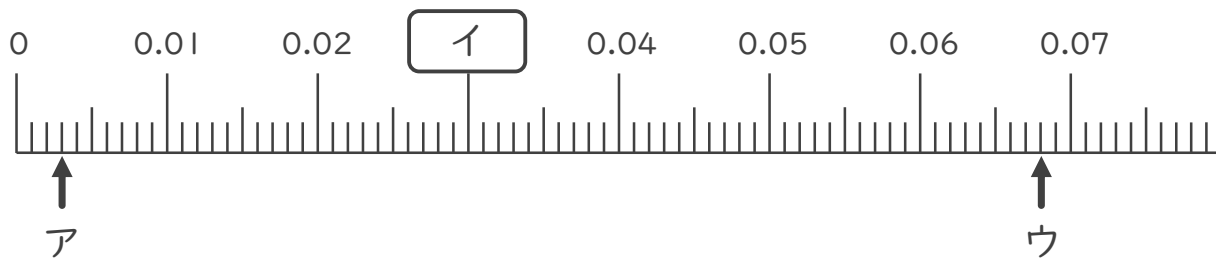
---

1. 次の小数を表すめもりに ↑ を書きましょう。

- ① 0.003      ② 0.024      ③ 0.047      ④ 0.065



2. 次の数直線でア～ウが表す数を答えましょう。



ア 0.003      イ 0.03      ウ 0.068

3. 次の問いに答えましょう。

① 0.023m は 0.001m を何こ集めたかさですか？

答え 23こ

② 0.008m は 0.001m を何こ集めたかさですか？

答え 8こ

