

# 小数の表し方4

# 13

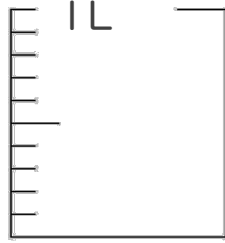
## ㉓ 水のかさをぬる

日にち：        月        日

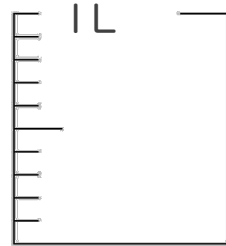
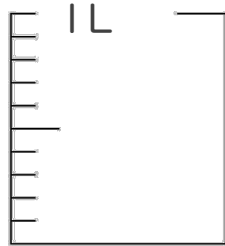
名まえ \_\_\_\_\_

1. 次の水のかさの分だけ色をぬりましょう。

① 1.14 L



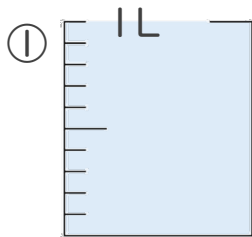
② 2.02 L



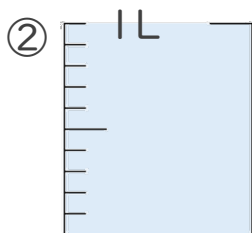
③ 0.26 L



2. 1L入る水さしと、0.1L入る水さしがあります。  
水さしに入っている水のかさを、L単位で表しましょう。



答え \_\_\_\_\_



答え \_\_\_\_\_





# 小数の表し方4

# 13

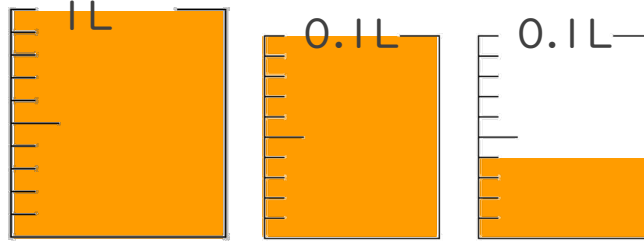
## ◎ 水のかさをぬる

日にち：        月        日

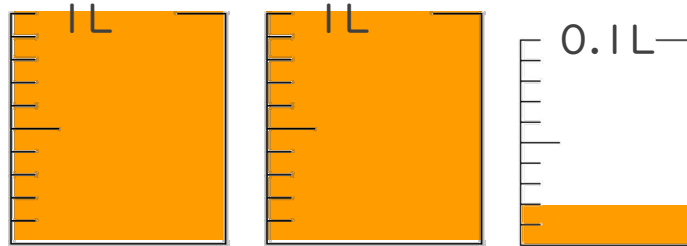
名まえ \_\_\_\_\_

1. 次の水のかさの分だけ色をぬりましょう。

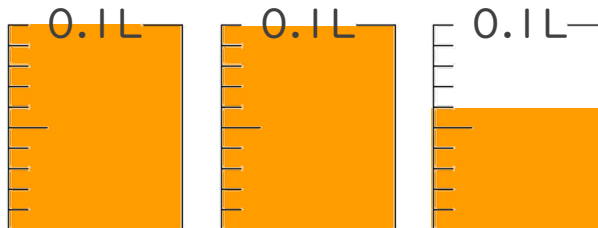
① 1.14 L



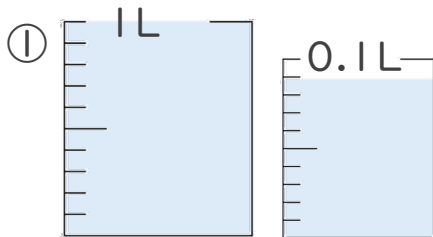
② 2.02 L



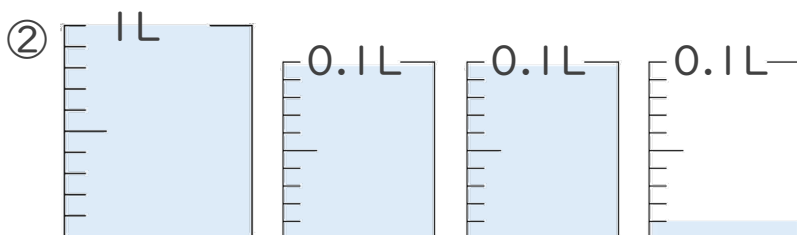
③ 0.26 L



2. 1L入る水さしと、0.1L入る水さしがあります。  
水さしに入っている水のかさを、L単位で表しましょう。



答え 1.09L



答え 1.21L

