



小数の表し方 4

13

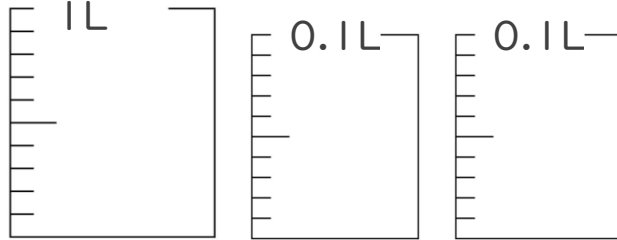
◎ 水のかさをぬる

日にち： 月 日

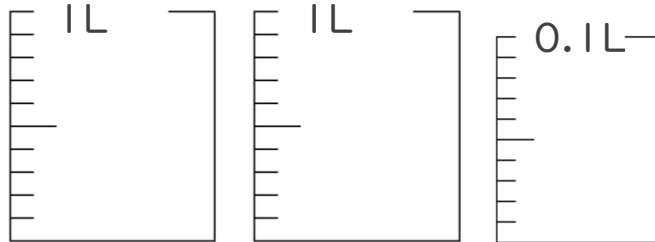
名まえ _____

1. 次の水のかさの分だけ色をぬりましょう。

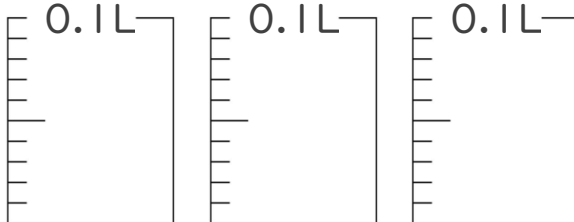
① 1.14 L



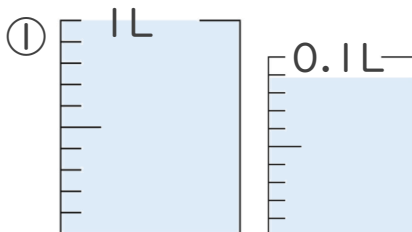
② 2.02 L



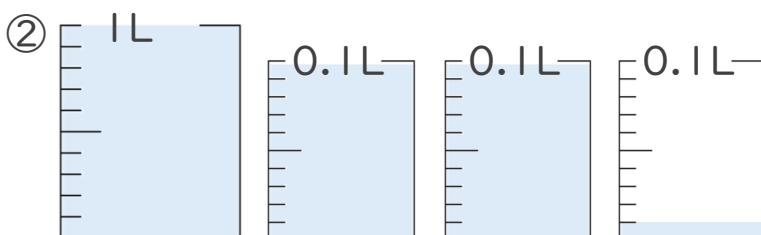
③ 0.26 L



2. 1L入る水さしと、0.1L入る水さしがあります。
水さしに入っている水のかさを、L単位で表しましょう。



答え _____



答え _____





小数の表し方 4

13

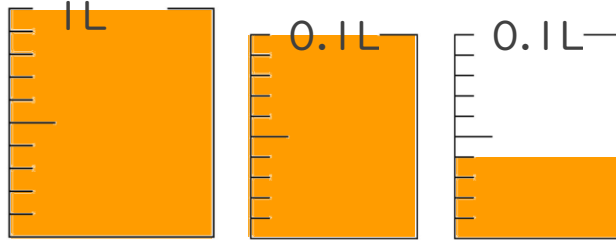
◎ 水のかさをぬる

日にち： 月 日

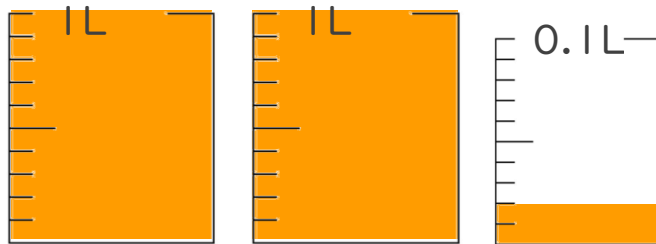
名まえ _____

1. 次の水のかさの分だけ色をぬりましょう。

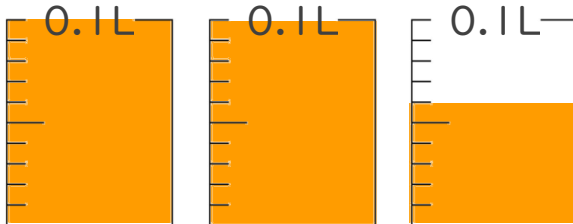
① 1.14 L



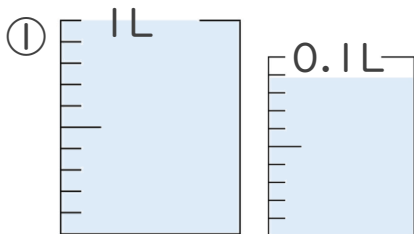
② 2.02 L



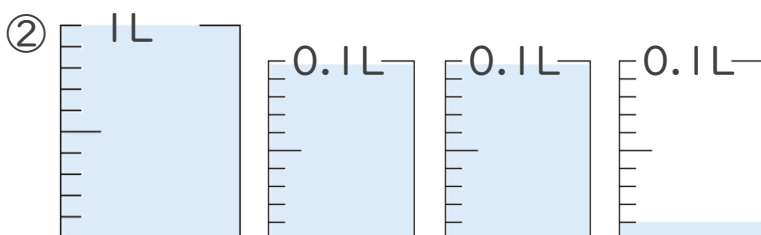
③ 0.26 L



2. 1L入る水さしと、0.1L入る水さしがあります。
水さしに入っている水のかさを、L単位で表しましょう。



答え 1.09L



答え 1.21L

⑬ 仕上げ 答え



すらすらぷりんと