

分数 (分数の表し方) 2

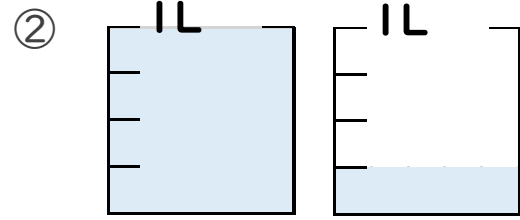
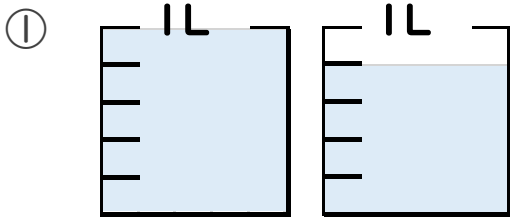
● 水のかさを帯分数と仮分数で表す

13

日にち： 月 日

名まえ _____

1 水のかさは何Lですか。仮分数と帯分数の両方で表しましょう。



答え 仮分数…

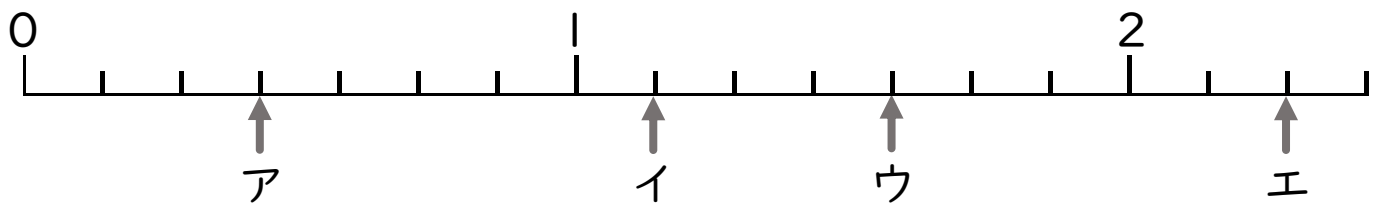
答え 仮分数…

帯分数…

帯分数…

2 ア～オのめもりが表す分数はいくつですか。

1より大きい分数は、仮分数と帯分数の両方で表しましょう。




答え ア

イ

ウ

エ



分数 (分数の表し方) 2

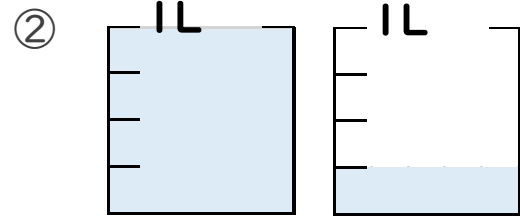
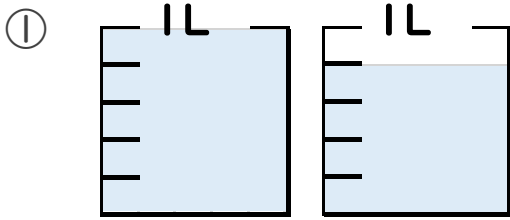
● 水のかさを帯分数と仮分数で表す

13

日にち： 月 日

名まえ

1 水のかさは何Lですか。仮分数と帯分数の両方で表しましょう。



答え 仮分数… $\frac{9}{5}$ L

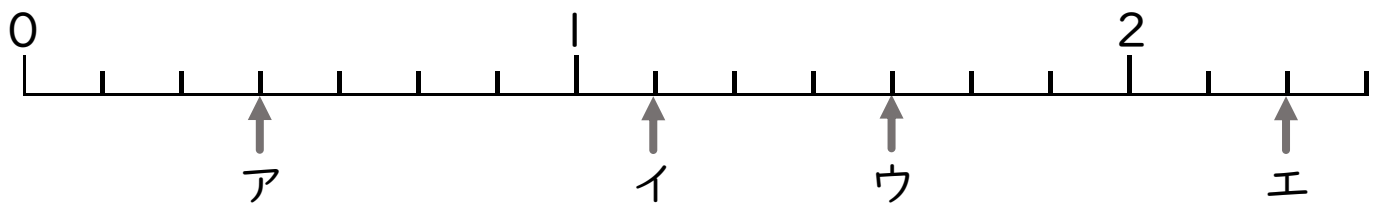
答え 仮分数… $\frac{5}{4}$ L

帯分数… $1\frac{4}{5}$ L

帯分数… $1\frac{1}{4}$ L

2 ア～オのめもりが表す分数はいくつですか。

1より大きい分数は、仮分数と帯分数の両方で表しましょう。



答え ア $\frac{3}{7}$

イ $\frac{8}{7}$, $1\frac{1}{7}$

ウ $\frac{11}{7}$, $1\frac{4}{7}$

エ $\frac{16}{7}$, $2\frac{2}{7}$