



分数 (分数の表し方) 2

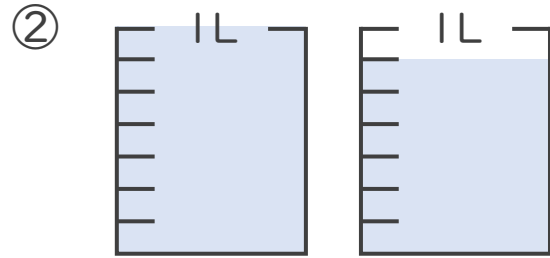
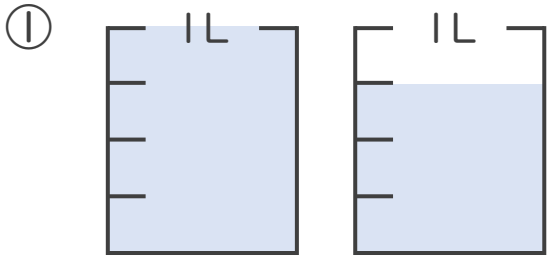
● 水のかさを帯分数と仮分数で表す



日にち： 月 日

名まえ _____

1 水のかさは何Lですか。仮分数と帯分数の両方で表しましょう。



答え：仮分数… L

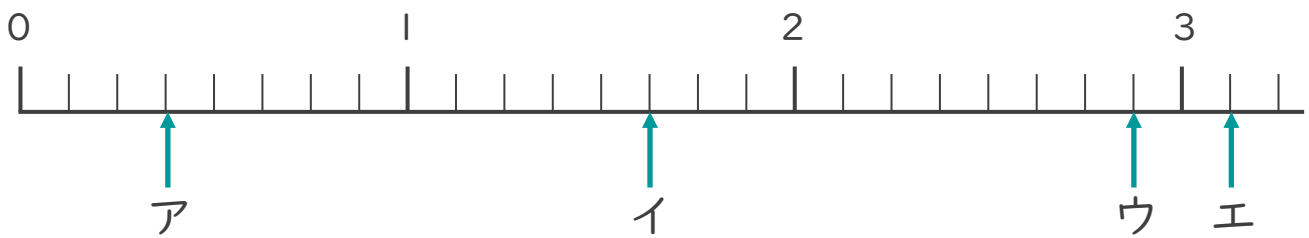
帯分数… L

答え：仮分数… L

帯分数… L

2 ア～エのめもりが表す分数はいくつですか。

1より大きい分数は、仮分数と帯分数の両方で表しましょう。



答え：ア

イ

ウ

エ



分数 (分数の表し方) 2

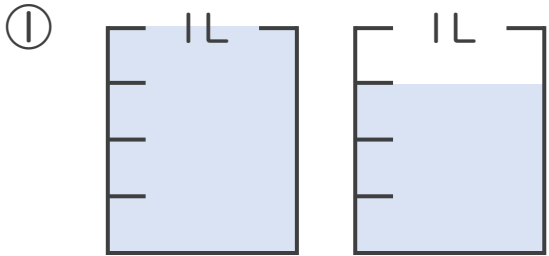
● 水のかさを帯分数と仮分数で表す



日にち： 月 日

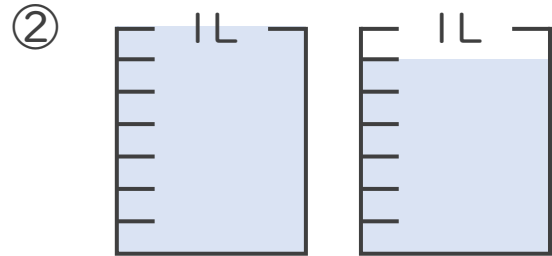
名まえ _____

1 水のかさは何Lですか。仮分数と帯分数の両方で表しましょう。



答え：仮分数… $\frac{7}{4}$ L

帯分数… $1\frac{3}{4}$ L

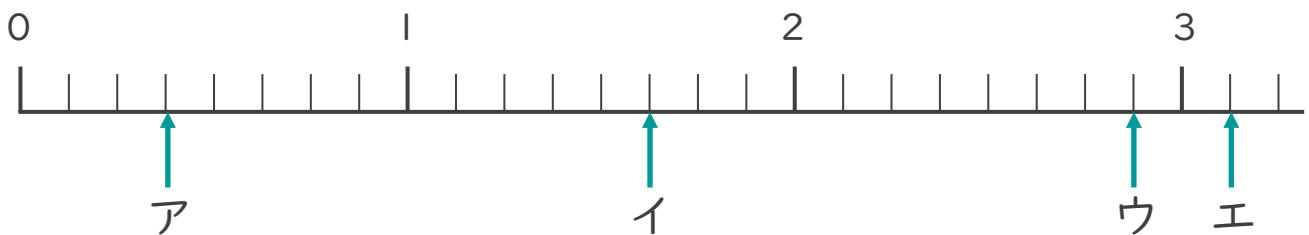


答え：仮分数… $\frac{13}{7}$ L

帯分数… $1\frac{6}{7}$ L

2 ア～エのめもりが表す分数はいくつですか。

1より大きい分数は、仮分数と帯分数の両方で表しましょう。



答え：ア $\frac{3}{8}$

イ $\frac{13}{8}$, $1\frac{5}{8}$

ウ $\frac{23}{8}$, $2\frac{7}{8}$

エ $\frac{25}{8}$, $3\frac{1}{8}$

