



分数 (分数の表し方) ①

真分数・帯分数・仮分数とは

13

日にち： 月 日

名まえ _____

1 次の分数は、真分数、仮分数、帯分数のどれですか。

① $\frac{2}{9}$

② $1\frac{7}{15}$

③ $\frac{4}{3}$

④ $\frac{14}{9}$

⑤ $\frac{2}{3}$

⑥ $2\frac{1}{8}$

答え： ①

②

③

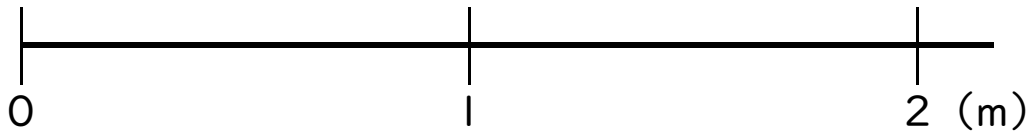
④

⑤

⑥

2 色をぬった部分の長さを、仮分数と帯分数の両方で表しましょう

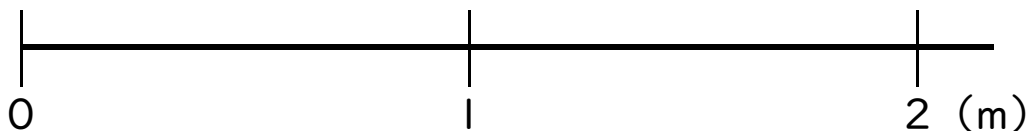
①



答え： 仮分数…

帯分数…

②



答え： 仮分数…

帯分数…





分数 (分数の表し方) ⑬

真分数・帯分数・仮分数とは

13

日にち： 月 日

名まえ

1 次の分数は、真分数、仮分数、帯分数のどれですか。

① $\frac{2}{9}$

② $1\frac{7}{15}$

③ $\frac{4}{3}$

④ $\frac{14}{9}$

⑤ $\frac{2}{3}$

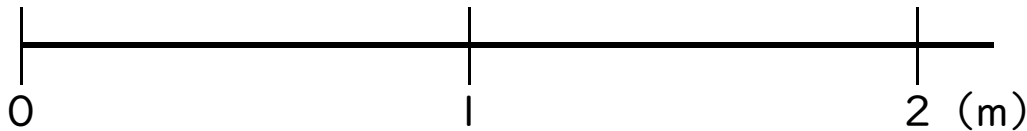
⑥ $2\frac{1}{8}$

答え： ① 真分数 ② 帯分数 ③ 仮分数

④ 仮分数 ⑤ 真分数 ⑥ 帯分数

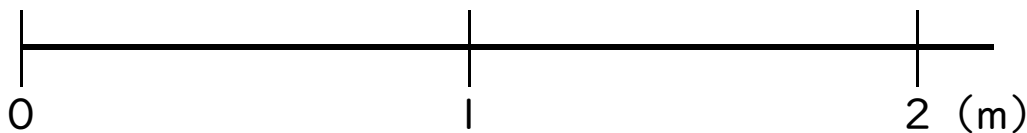
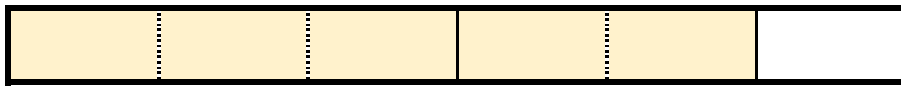
2 色をぬった部分の長さを、仮分数と帯分数の両方で表しましょう

①



答え： 仮分数… $\frac{3}{4}$ 帯分数… $1\frac{3}{4}$

②



答え： 仮分数… $\frac{5}{6}$ 帯分数… $1\frac{5}{6}$

