



小数のしくみ7

◎ 6より0.03小さい数



日にち： 月 日

名まえ

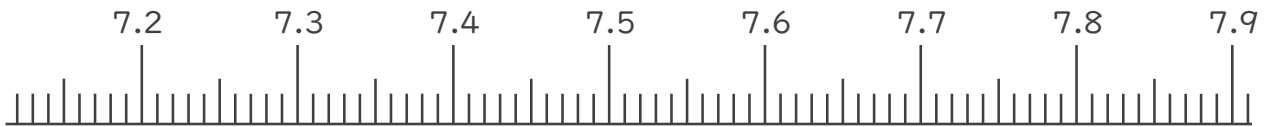
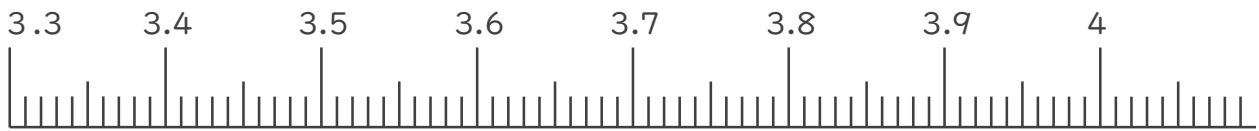
1. 下の数直線で、ア～エの数を表すめもりに ↑ をかきましょう。
また、 ↑ の下にア～エの記号とその数をかきましょう。

ア 3.5より0.04小さい数

イ 4より0.02大きい数

ウ 7.3より0.07小さい数

エ 7.8より0.05大きい数



2. 次の数はいくつですか。

① 3と0.12をあわせた数

答え

② 1を6こ、0.1を1こ、0.01を4こあわせた数

答え

③ 0.01を43こ集めた数

答え





小数のしくみ7

◎ 6より0.03小さい数



日にち： 月 日

名まえ _____

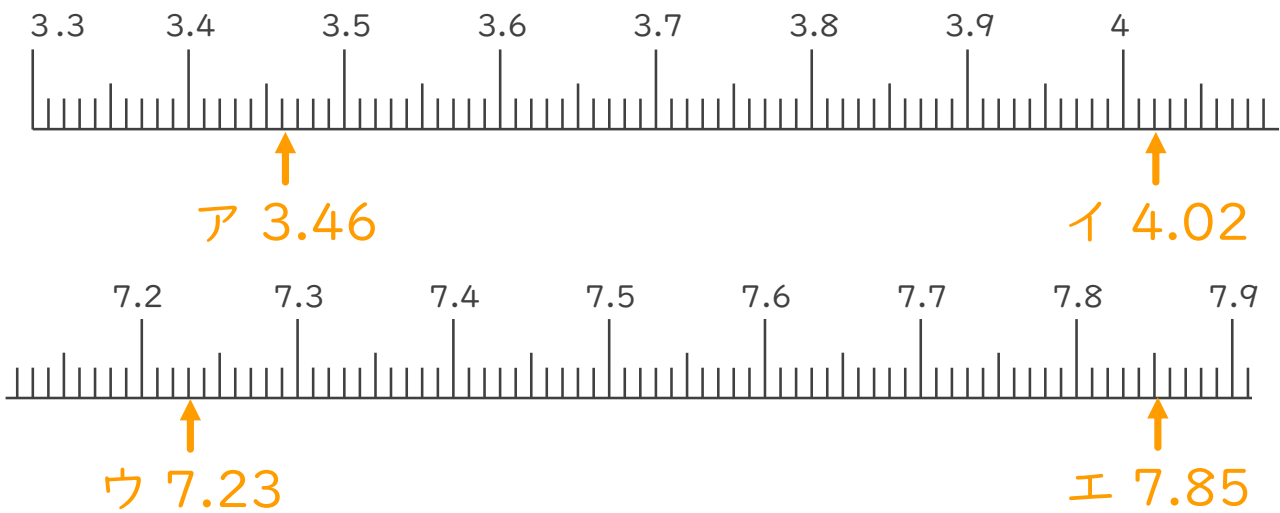
1. 下の数直線で、ア～エの数を表すめもりに ↑ をかきましょう。
また、 ↑ の下にア～エの記号とその数をかきましょう。

ア 3.5より0.04小さい数

イ 4より0.02大きい数

ウ 7.3より0.07小さい数

エ 7.8より0.05大きい数



2. 次の数はいくつですか。

① 3と0.12をあわせた数

答え 3.12

② 1を6こ、0.1を1こ、0.01を4こあわせた数

答え 6.14

③ 0.01を43こ集めた数

答え 0.43

