



角の大きさ 7

● 180° から
引いて求める角度

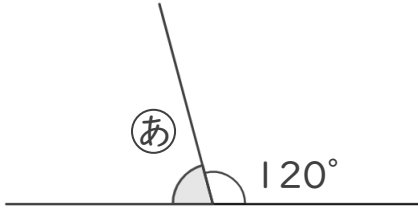


日にち： 月 日

名まえ _____

・ ①の角度を、計算で求めましょう。

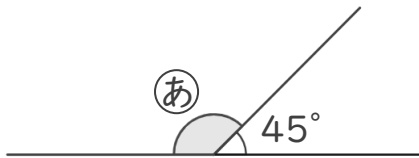
①



式：

答え（ ）

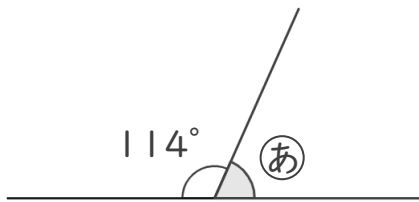
②



式：

答え（ ）

③



式：

答え（ ）

④



答え（ ）





角の大きさ 7

● 180° から
引いて求める角度

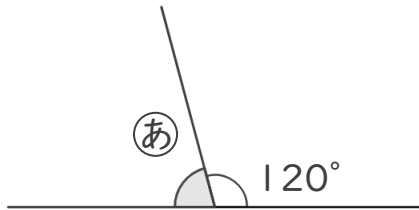
13

日にち： 月 日

名まえ _____

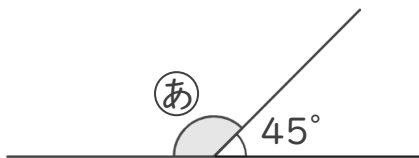
・ ①の角度を、計算で求めましょう。

①



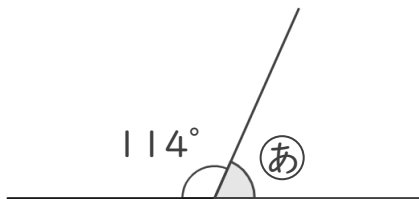
式： $180^\circ - 120^\circ = 60^\circ$ 答え (60°)

②



式： $180^\circ - 45^\circ = 135^\circ$ 答え (135°)

③



式： $180^\circ - 114^\circ = 66^\circ$ 答え (66°)

④



式： $180^\circ - 134^\circ = 46^\circ$ 答え (46°)

