



# 角の大きさ 7

● 180° から  
引いて求める角度

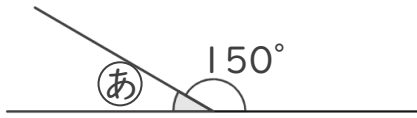
13

日にち：            月            日

名まえ \_\_\_\_\_

・ ①の角度を、計算で求めましょう。

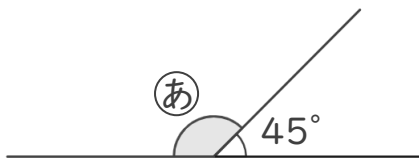
①



式：

答え（                      ）


②



式：

答え（                      ）


③



式：

答え（                      ）

④



答え（                      ）





## 角の大きさ 7

● 180° から  
引いて求める角度

13

日にち：            月            日

名まえ \_\_\_\_\_

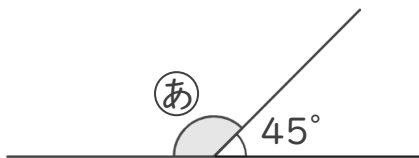
・ ①の角度を、計算で求めましょう。

①



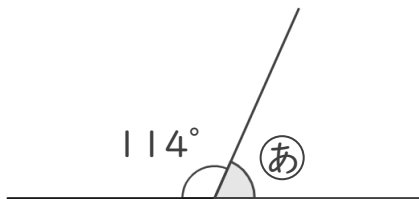
式：  $180^\circ - 150^\circ = 30^\circ$       答え (       $30^\circ$       )

②



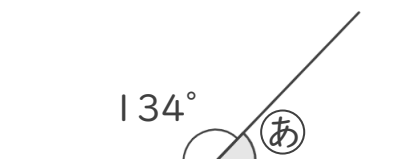
式：  $180^\circ - 45^\circ = 135^\circ$       答え (       $135^\circ$       )

③



式：  $180^\circ - 114^\circ = 66^\circ$       答え (       $66^\circ$       )

④



式：  $180^\circ - 134^\circ = 46^\circ$       答え (       $46^\circ$       )

