



垂直, 平行と
四角形 8

● マス目に斜めな
正方形をかく

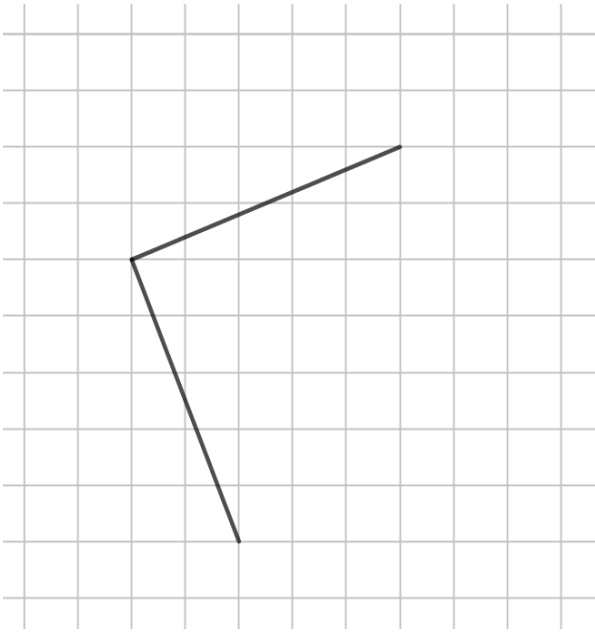
14

日にち： 月 日

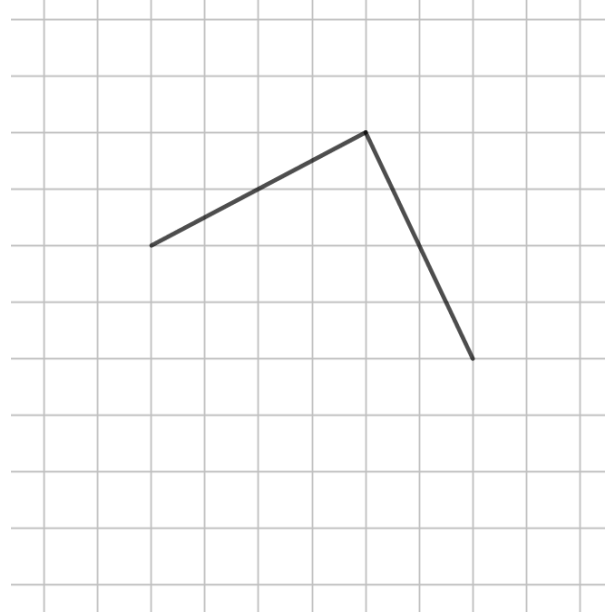
名まえ _____

1 次の図の続きをかいて、正方形を完成させましょう。

①



②

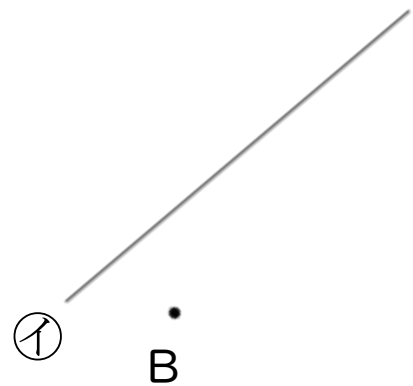



2 2まいの三角じょうぎを使って、次の点を通り、直線に平行な直線をひきましょう。

①



②





垂直, 平行と
四角形 8

● マス目に斜めな
正方形をかく

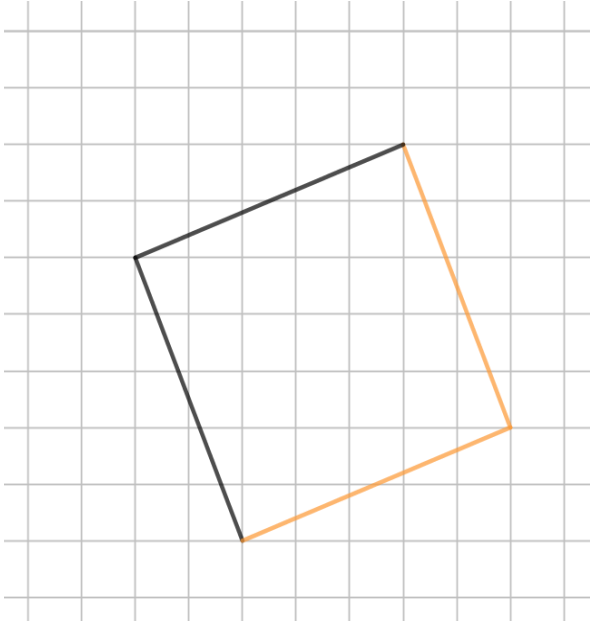
14

日にち： 月 日

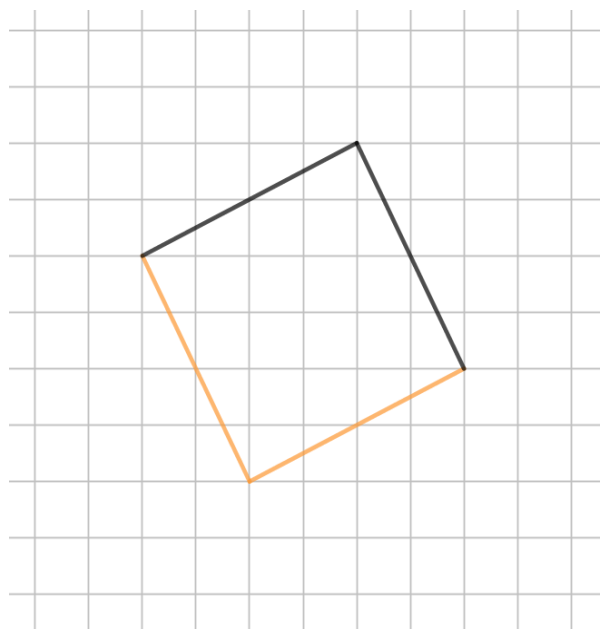
名まえ _____

1 次の図の続きをかいて、正方形を完成させましょう。

①



②



2 2まいの三角じょうぎを使って、次の点を通り、直線に平行な直線をひきましょう。

①



ア



②

