



面積の
はかり方と表し方 2

14

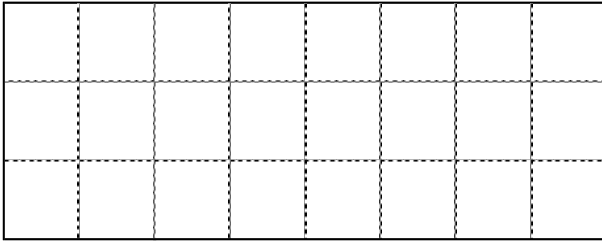
◎ マス目の数で広さくらべ

日にち： 月 日


名まえ _____

・ 次の図形は1マスが1cm²です。次の問いに答えましょう。

ア



イ



① 図形はそれぞれ何マスですか。

ア :

イ :

② 図形はそれぞれ何cm²ですか。

ア :

イ :

③ どちらが広いでしょう。

答え： _____



面積の
はかり方と表し方 2

14

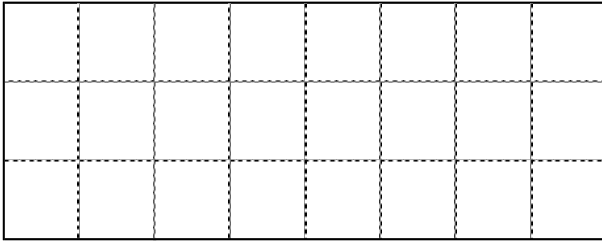
◎ マス目の数で広さくらべ

日にち： 月 日


名まえ _____

・ 次の図形は1マスが1cm²です。次の問いに答えましょう。

ア



イ



① 図形はそれぞれ何マスですか。

ア： 24 マス イ： 30 マス

② 図形はそれぞれ何cm²ですか。

ア： 24 cm² イ： 30 cm²

③ どちらが広いでしょう。

答え： イ