



# 分数 (分数の表し方) 5

◎ 仮分数を帯分数や整数になおす



日にち：            月            日

名まえ \_\_\_\_\_

1 次の仮分数を、帯分数か整数になおしましょう

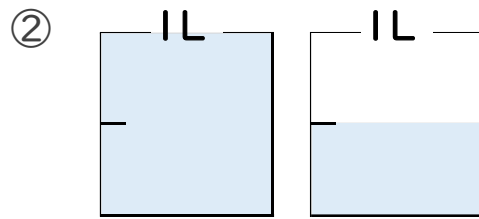
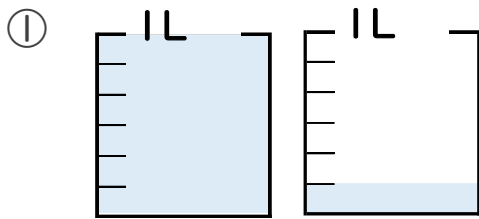
①  $\frac{47}{7} =$

③  $\frac{16}{5} =$

②  $\frac{4}{2} =$

④  $\frac{9}{4} =$

2 水のかさは何Lですか。仮分数と帯分数の両方で表しましょう。



答え 仮分数…

答え 仮分数…

帯分数…

帯分数…



# 分数 (分数の表し方) 5

◎ 仮分数を帯分数や整数になおす



日にち：            月            日

名まえ \_\_\_\_\_

1 次の仮分数を、帯分数か整数になおしましょう

$$\textcircled{1} \quad \frac{47}{7} = 6\frac{5}{7}$$

$$47 \div 7 = 6 \text{ あまり } 5$$

$$\textcircled{2} \quad \frac{4}{2} = 2$$

$$4 \div 2 = 2$$

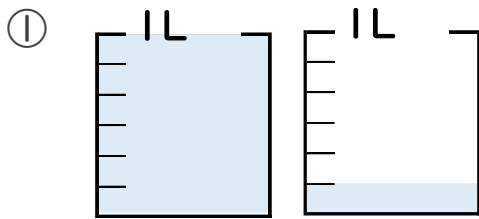
$$\textcircled{3} \quad \frac{16}{5} = 3\frac{1}{5}$$

$$16 \div 5 = 3 \text{ あまり } 1$$

$$\textcircled{4} \quad \frac{9}{4} = 2\frac{1}{4}$$

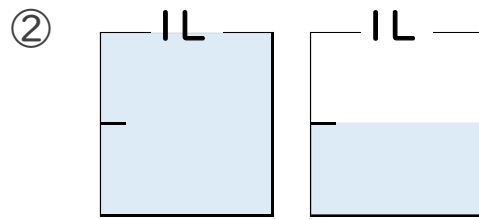
$$9 \div 4 = 2 \text{ あまり } 1$$

2 水のかさは何Lですか。仮分数と帯分数の両方で表しましょう。



答え 仮分数…  $\frac{7}{6}$  L

帯分数…  $1\frac{1}{6}$  L



答え 仮分数…  $\frac{3}{2}$  L

帯分数…  $1\frac{1}{2}$  L