



小数のたし算とひき算 I

◎ 位のそろった小数のたし算



日にち： 月 日

名まえ _____

・ 次の計算をしなさい。

① $6.78 + 1.46$




② $5.79 + 3.86$



③ $4.096 + 1.633$




④ $4.43 + 3.75$



⑤ $6.849 + 1.923$




⑥ $5.643 + 0.119$



⑦ $2.209 + 6.186$



⑧ $4.68 + 5.13$





小数のたし算とひき算 I

◎ 位のそろった小数のたし算



日にち： 月 日

名まえ _____

・ 次の計算をしなさい。

① $6.78 + 1.46$

	6	7	8
+	1	4	6
<hr/>			
	8	2	4

② $5.79 + 3.86$

	5	7	9
+	3	8	6
<hr/>			
	9	6	5

③ $4.096 + 1.633$

	4	0	9	6
+	1	6	3	3
<hr/>				
	5	7	2	9

④ $4.43 + 3.75$

	4	4	3
+	3	7	5
<hr/>			
	8	1	8

⑤ $6.849 + 1.923$

	6	8	4	9
+	1	9	2	3
<hr/>				
	8	7	7	2

⑥ $5.643 + 0.119$

	5	6	4	3
+	0	1	1	9
<hr/>				
	5	7	6	2

⑦ $2.209 + 6.186$

	2	2	0	9
+	6	1	8	6
<hr/>				
	8	3	9	5

⑧ $4.68 + 5.13$

	4	6	8
+	5	1	3
<hr/>			
	9	8	1