



角の大きさ 10

● 反時計回りの角の作図

14


日にち： 月 日

名まえ _____

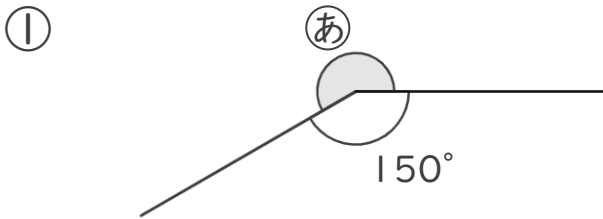
1 次の角をかきましょう。

① 40°

② 115°

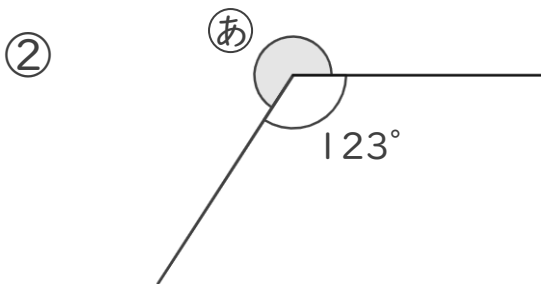


2 ①の角度を、計算で求めましょう。



式：

答え（ ）



式：

答え（ ）





角の大きさ 10

● 反時計回りの角の作図

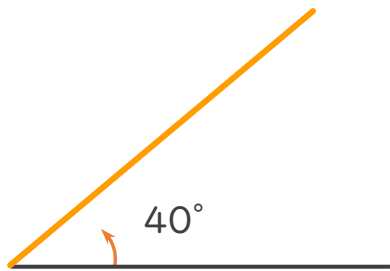


日にち： 月 日

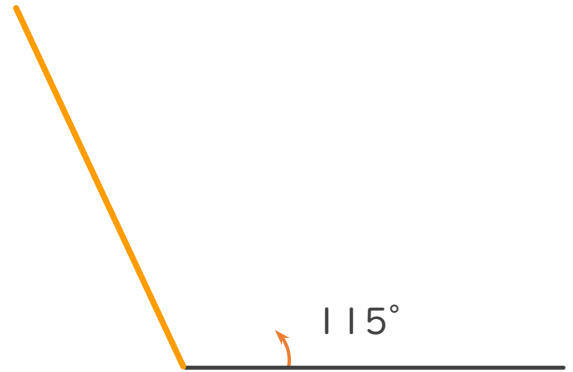
名まえ _____

1 次の角をかきましょう。

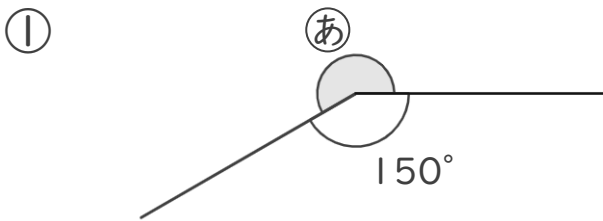
① 40°



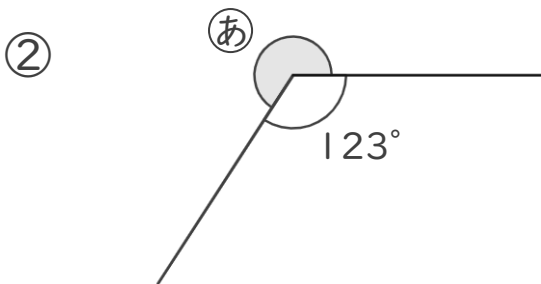
② 115°



2 ①の角度を、計算で求めましょう。



式： $360^\circ - 150^\circ = 210^\circ$ 答え（ 210° ）



式： $360^\circ - 123^\circ = 237^\circ$ 答え（ 237° ）