



垂直, 平行と
四角形 9

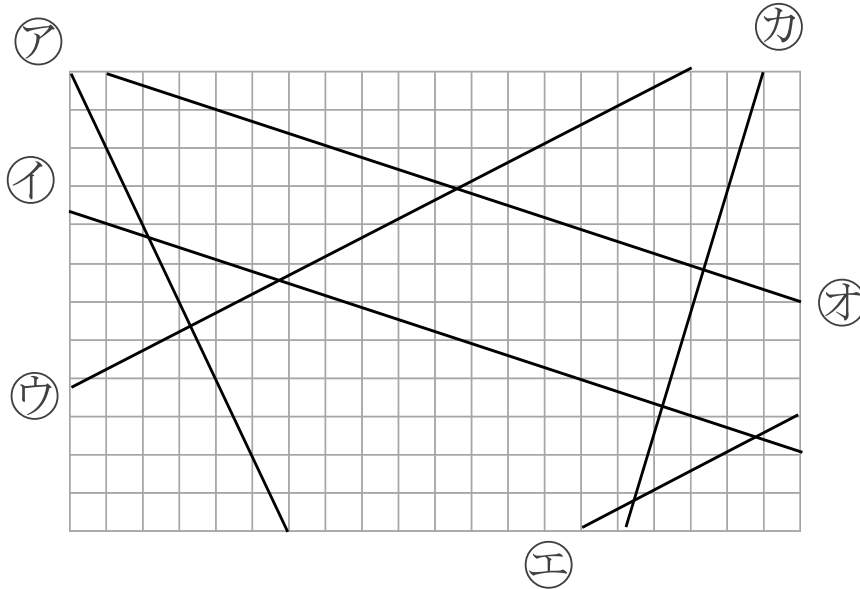
● 垂直, 平行な
組み合わせをさがす

14

日にち： 月 日

名まえ _____

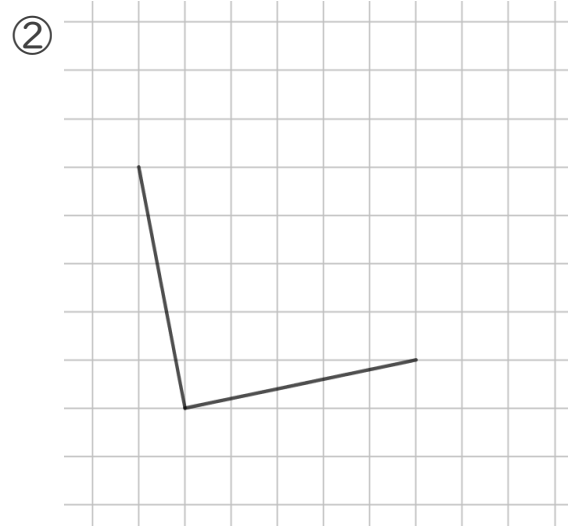
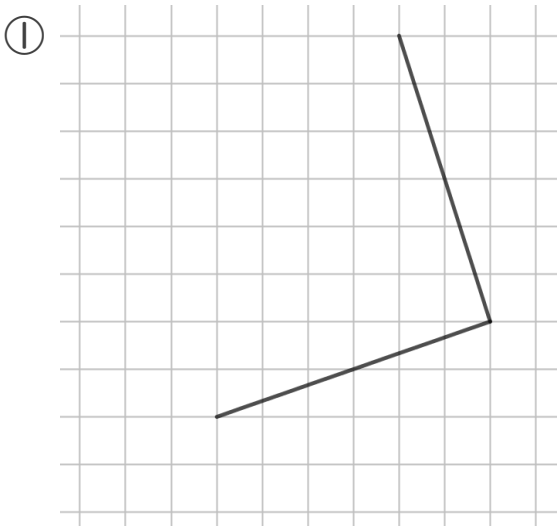
1 次の図で、垂直な直線はどれとどれですか。また、平行な直線は、どれとどれですか。



答え： 垂直な組み合わせ…

平行な組み合わせ…

2 次の図の続きをかいて、正方形を完成させましょう。





垂直, 平行と 四角形 9

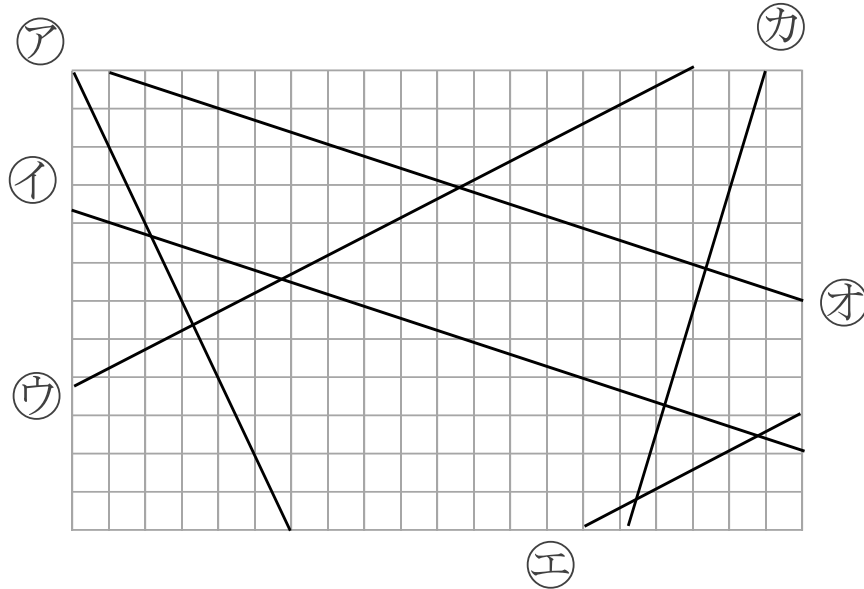
14

● 垂直, 平行な
組み合わせをさがす

日にち： 月 日

名まえ _____

1 次の図で、垂直な直線はどれとどれですか。また、平行な直線は、どれとどれですか。



答え： 垂直な組み合わせ… **ア と ウ** , **オ と カ** ,
イ と カ , **ア と エ**

平行な組み合わせ… **イ と オ** , **ウ と エ**

2 次の図の続きをかいて、正方形を完成させましょう。

