



# 大きな数 5

◎ 大きな数の数直線

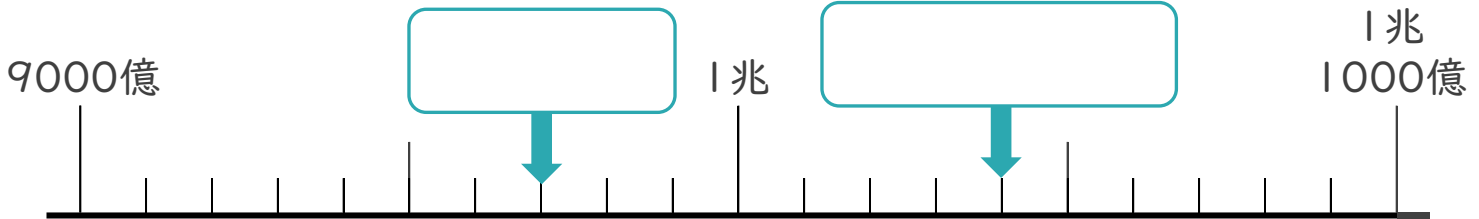


日にち：            月            日


名まえ \_\_\_\_\_

1 下の数直線で、□ にあてはまる数を書きましょう。

①



②



2 □ にあう数を書きましょう。

① 1兆を6こ、1億を2こ、1万を7こあわせた数は

一の位

--	--	--	--	--	--	--	--	--	--	--

です。

② 1億を981こ、1万を5000こあわせた数は

一の位

--	--	--	--	--	--	--	--	--	--	--

です。





# 大きな数 5

◎ 大きな数の数直線

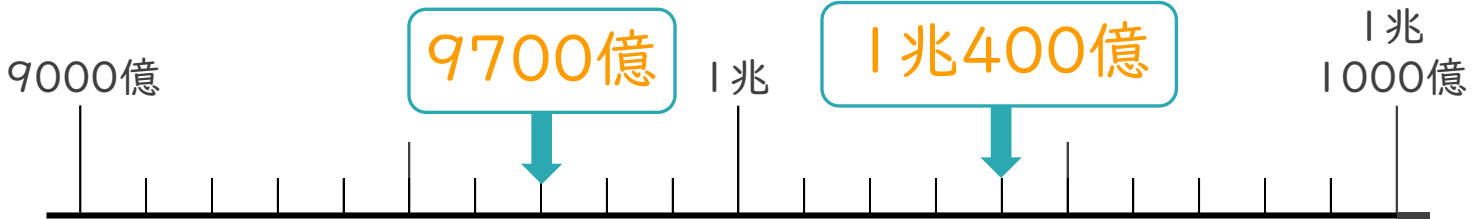


日にち：            月            日


名まえ \_\_\_\_\_

1 下の数直線で、□ にあてはまる数を書きましょう。

①



②



2 □ にあう数を書きましょう。

① 1兆を6こ、1億を2こ、1万を7こあわせた数は

一の位



です。

② 1億を981こ、1万を5000こあわせた数は

一の位



です。

