



垂直、平行と
四角形 19

◎ 対角線の性質と
四角形の種類



日にち： 月 日

名まえ _____

1 次のせいしつがいつでもあてはまる四角形を、下からすべて選んで㊦から㊩で
答えましょう。

㊦長方形



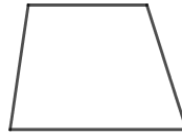
㊧正方形



㊨平行四辺形



㊩台形



㊪ひし形



① 2本の対角線が垂直に交わる。

()


② 向かい合った辺の長さが等しい。

()

③ 向かい合った角の大きさが等しい。

()

2 対角線の長さが8cmと2cmのひし形をかきましょう。





垂直、平行と
四角形 19

◎ 対角線の性質と
四角形の種類



日にち： 月 日

名まえ _____

1 次のせいしつがいつでもあてはまる四角形を、下からすべて選んで㉗から㉛で答えましょう。

㉗長方形



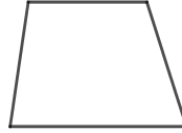
㉘正方形



㉙平行四辺形



㉚台形



㉛ひし形



① 2本の対角線が垂直に交わる。

(イ, オ)

② 向かい合った辺の長さが等しい。

(ア, イ, ウ, オ)

③ 向かい合った角の大きさが等しい。

(ア, イ, ウ, オ)

2 対角線の長さが8cmと2cmのひし形をかきましょう。

