



小数のたし算とひき算4

◎計算のくふうと小数のたし算

14

日にち： 月 日

名まえ _____

1 工夫して計算しましょう。

$$\textcircled{1} \quad 2.5 + 6.3 + 4.5 =$$

$$=$$

$$=$$


$$\textcircled{2} \quad 1.78 + 9.4 + 4.22 =$$

$$=$$


$$=$$

2 次の計算をしましょう。


① $32 + 9.61$




② $7.58 + 8.42$



③ $0.92 + 1.645$



④ $12.83 + 7.17$





1 工夫して計算しましょう。

$$\begin{aligned} \textcircled{1} \quad 2.5 + 6.3 + 4.5 &= 2.5 + 4.5 + 6.3 \\ &= 7 + 6.3 \\ &= 13.3 \end{aligned}$$

$$\begin{aligned} \textcircled{2} \quad 1.78 + 9.4 + 4.22 &= 1.78 + 4.22 + 9.4 \\ &= 6 + 9.4 \\ &= 15.4 \end{aligned}$$

2 次の計算をしましょう。

① 32 + 9.61

	3	2	
+		9	6
<hr/>			
	4	1	6

② 7.58 + 8.42

	7	5	8
+	8	4	2
<hr/>			
1	6	0	0

③ 0.92 + 1.645

	0	9	2	
+	1	6	4	5
<hr/>				
	2	5	6	5

④ 12.83 + 7.17

	1	2	8	3
+		7	1	7
<hr/>				
2	0	0	0	