



垂直, 平行と 四角形⑦

14

● 平行な直線をひく

日にち： 月 日

名まえ _____

1 2まいの三角じょうぎを使って、次の点を通り、直線に垂直な直線をひきましょう。

①

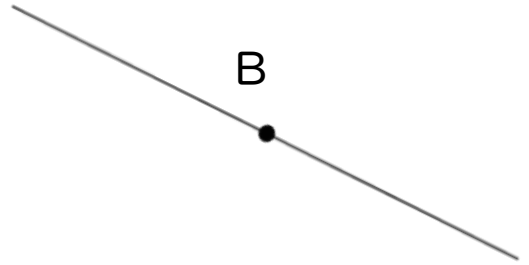
A



②

イ

B



2 2まいの三角じょうぎを使って、次の点を通り、直線に平行な直線をひきましょう。

①



A

②

B





垂直、平行と四角形⑦

14

◎ 平行な直線をひく

日にち： 月 日

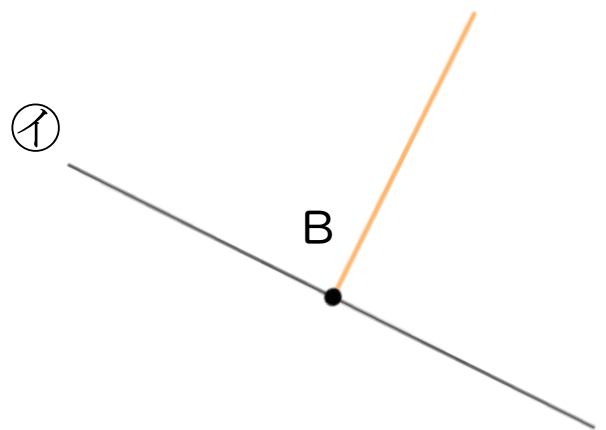
名まえ _____

1 2まいの三角じょうぎを使って、次の点を通り、直線に垂直な直線をひきましょう。

①

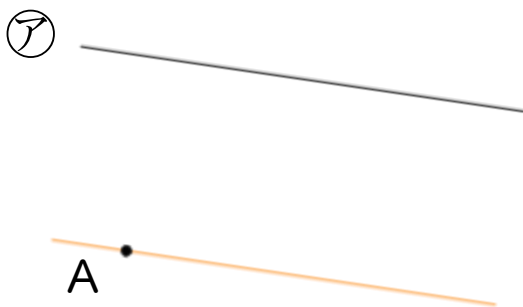


②



2 2まいの三角じょうぎを使って、次の点を通り、直線に平行な直線をひきましょう。

①



②

