



小数の表し方5

◎ 数直線の読みとり

14

日にち： 月 日

名まえ _____

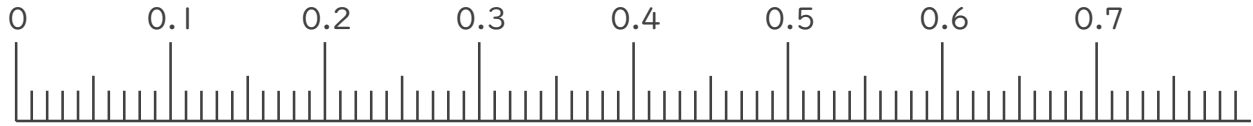
1. 次の小数を表すめもりに ↑ を書きましょう。

① 0.05

② 0.21

③ 0.47

④ 0.63

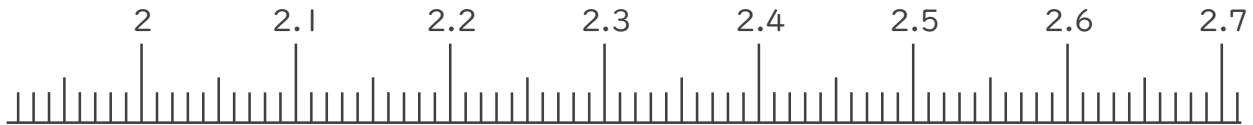


⑤ 2.02

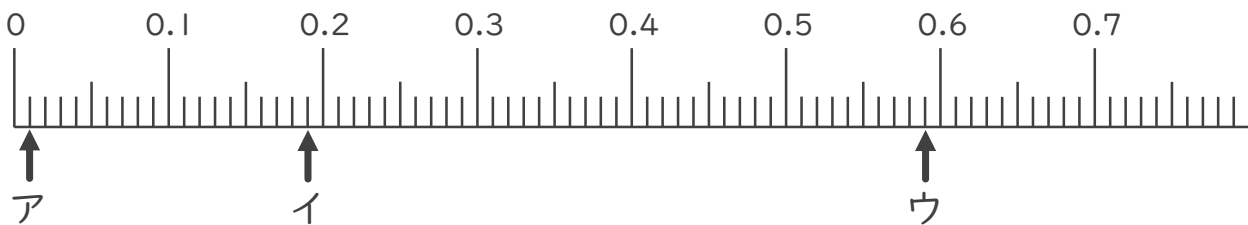
⑥ 2.17

⑦ 2.53

⑧ 2.68



2. 次の数直線でア～オが表す数を答えましょう。



ア

イ

ウ





小数の表し方5

◎ 数直線の読みとり

14

日にち： 月 日

名まえ _____

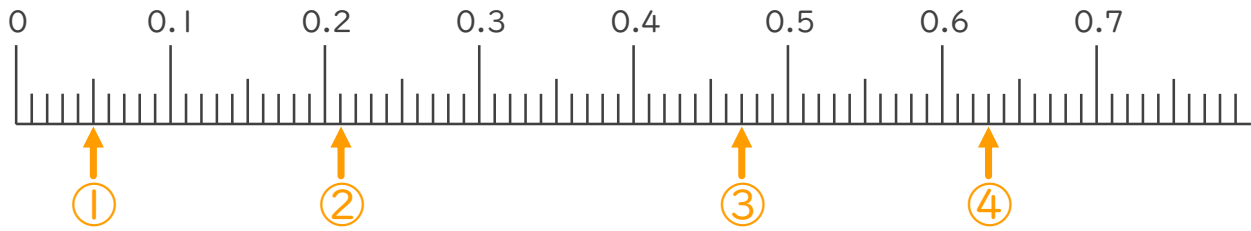
1. 次の小数を表すめもりに ↑ を書きましょう。

① 0.05

② 0.21

③ 0.47

④ 0.63

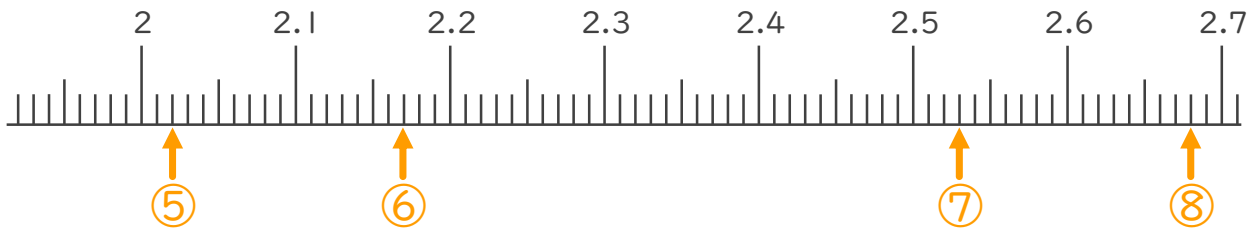


⑤ 2.02

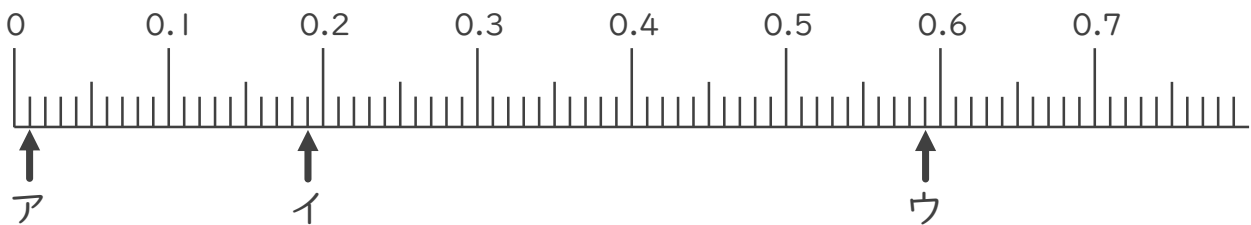
⑥ 2.17

⑦ 2.53

⑧ 2.68



2. 次の数直線でア～オが表す数を答えましょう。



ア 0.01

イ 0.19

ウ 0.59

