



# 小数の表し方8

㊦ 数直線の読みとり  
(小数第三位)

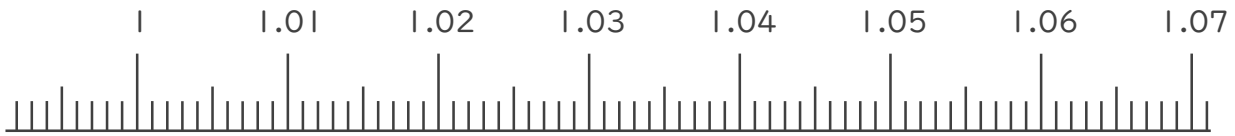


日にち：          月          日

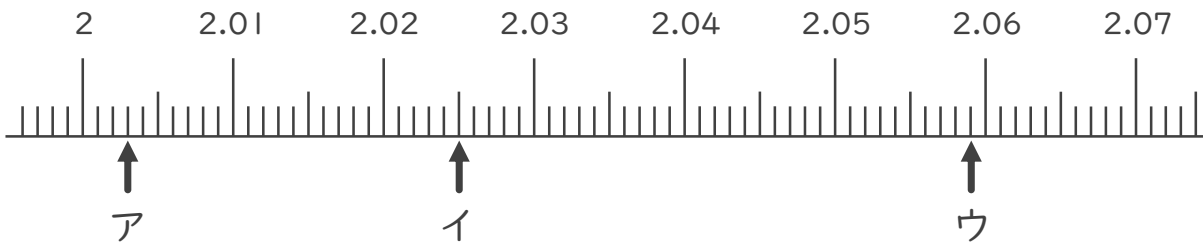
名まえ \_\_\_\_\_

1. 次の小数を表すめもりに ↑ を書きましょう。

- ① 1.002
- ② 1.015
- ③ 1.052
- ④ 1.067



2. 次の数直線でア～ウが表す数を答えましょう。



ア                                  イ                                  ウ

\_\_\_\_\_

3. 次の問いに答えましょう。

① 0.007m は 0.001m を何こ集めたかさですか？

答え \_\_\_\_\_

② 0.01m は 0.001m を何こ集めたかさですか？

答え \_\_\_\_\_





# 小数の表し方8

㉞ 数直線の読みとり  
(小数第三位)

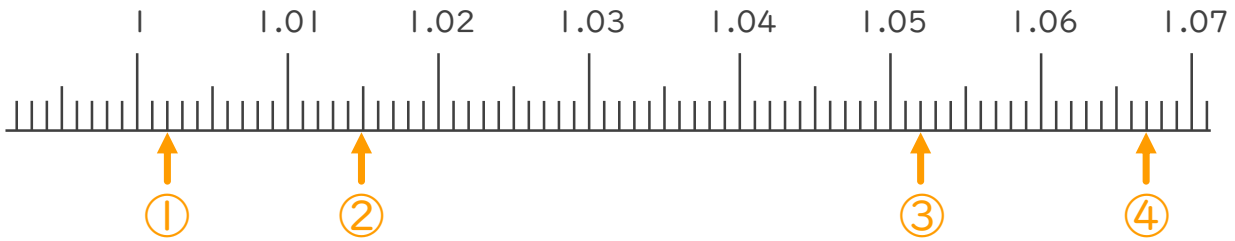


日にち：          月          日

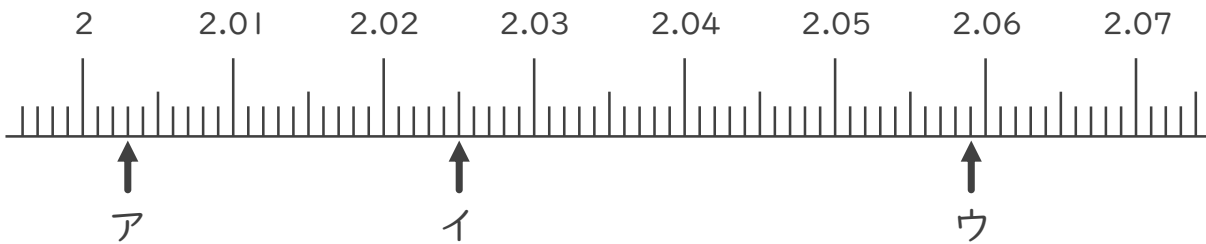
名まえ \_\_\_\_\_

1. 次の小数を表すめもりに ↑ を書きましょう。

- ① 1.002          ② 1.015          ③ 1.052          ④ 1.067



2. 次の数直線でア～ウが表す数を答えましょう。



ア 2.003          イ 2.025          ウ 2.059

3. 次の問いに答えましょう。

① 0.007m は 0.001m を何こ集めたかさですか？

答え 7こ

② 0.01m は 0.001m を何こ集めたかさですか？

答え 10こ

