



# 小数の表し方2

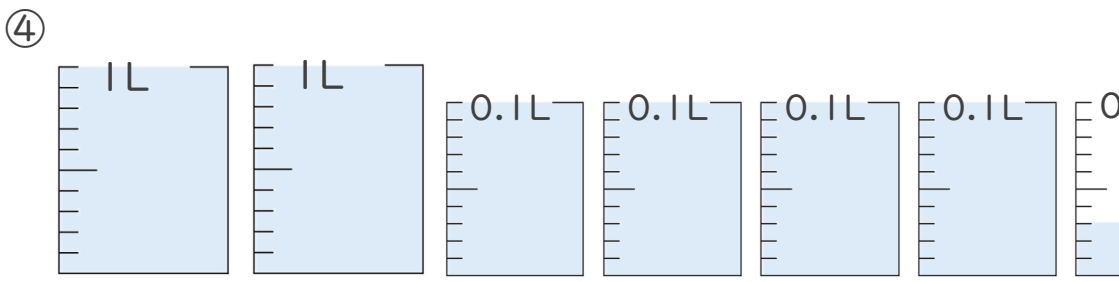
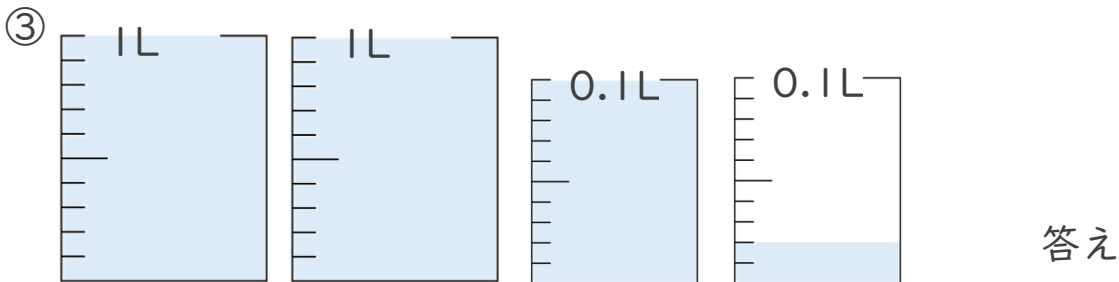
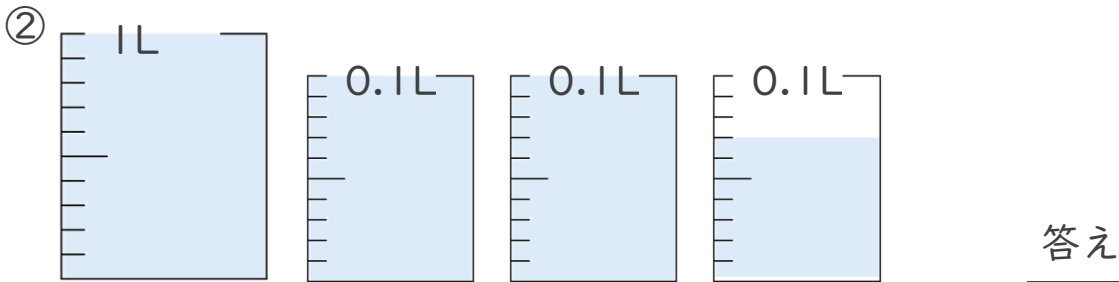
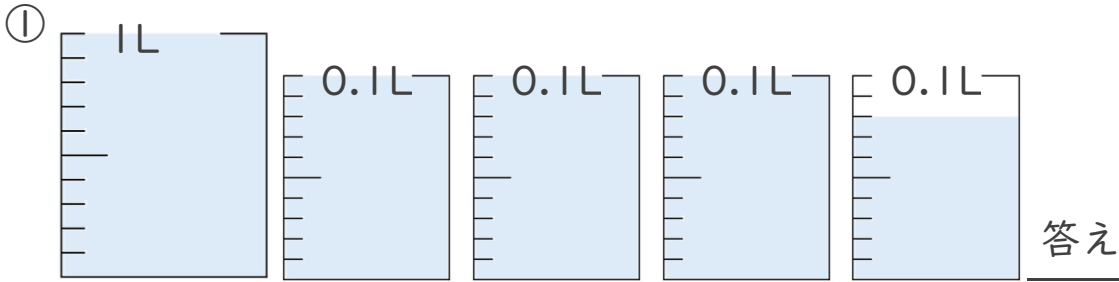
◎ 水のかさの読みとり

14

日にち：      月      日

名まえ \_\_\_\_\_

- ・ 1L入る水さしと、0.1L入る水さしがあります。  
水さしに入っている水のかさを、L単位で表しましょう。





# 小数の表し方2

◎ 水のかさの読みとり

14

日にち：      月      日

名まえ \_\_\_\_\_

- ・ 1L入る水さしと、0.1L入る水さしがあります。  
水さしに入っている水のかさを、L単位で表しましょう。

