

小数の表し方 4

14

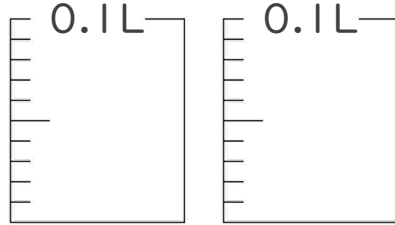
◎ 水のかさをぬる

日にち： 月 日

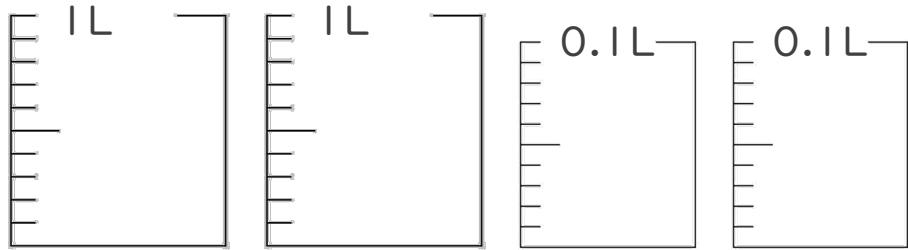
名まえ _____

1. 次の水のかさの分だけ色をぬりましょう。

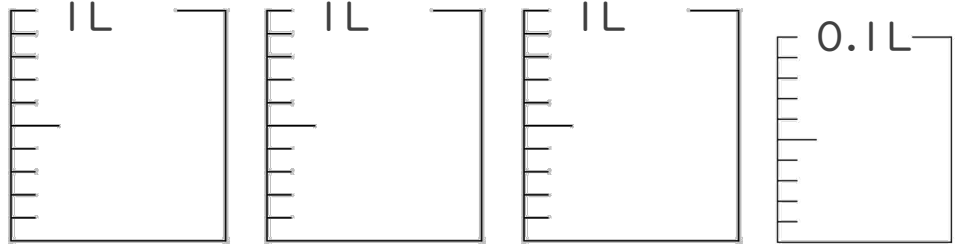
① 0.17 L



② 2.13 L

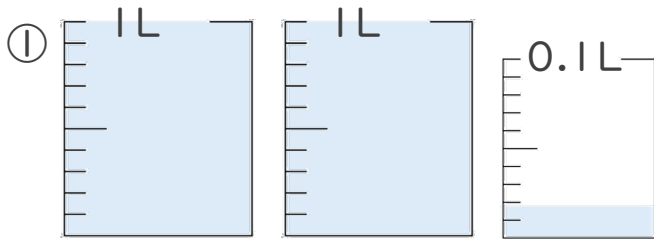


③ 3.08 L

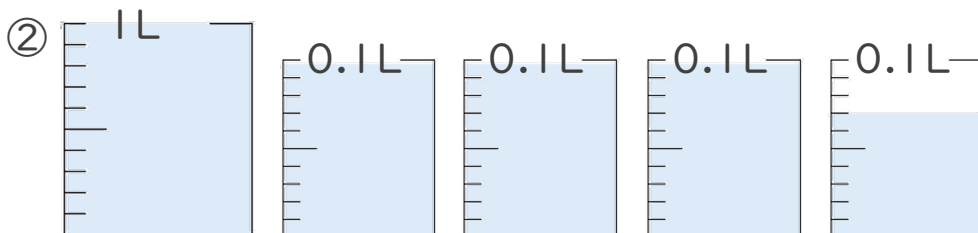


2. 1L入る水さしと、0.1L入る水さしがあります。

水さしに入っている水のかさを、L単位で表しましょう。



答え _____



答え _____





小数の表し方4

14

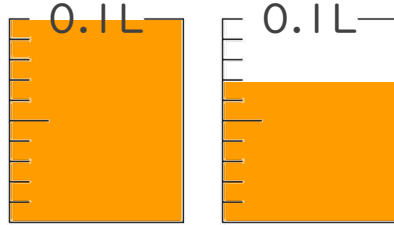
◎ 水のかさをぬる

日にち： 月 日

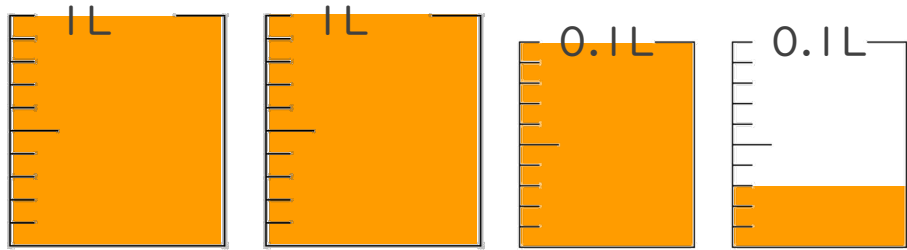
名まえ _____

1. 次の水のかさの分だけ色をぬりましょう。

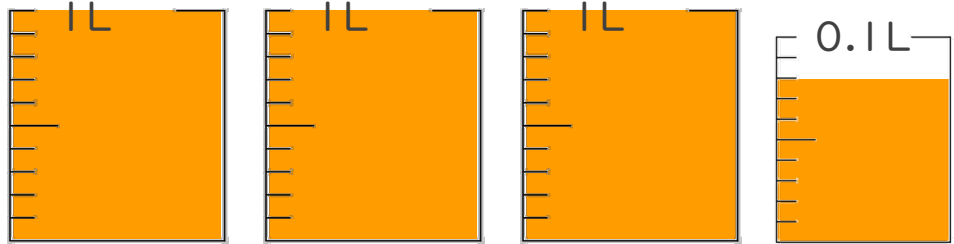
① 0.17 L



② 2.13 L

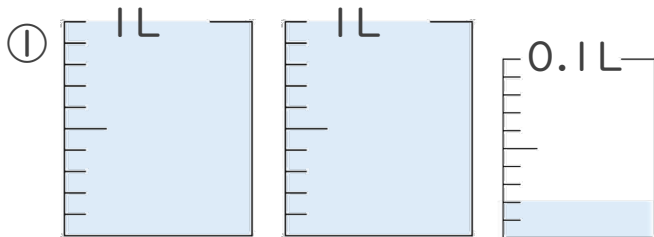


③ 3.08 L

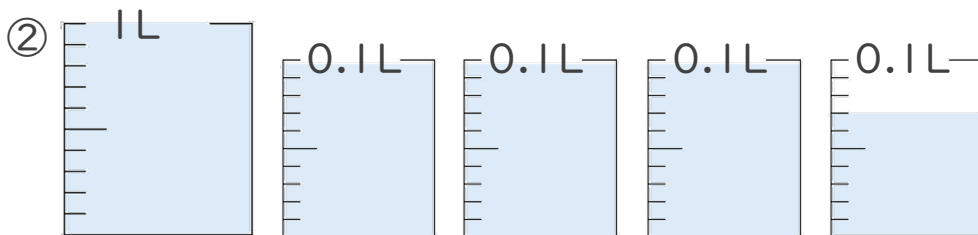


2. 1L入る水さしと、0.1L入る水さしがあります。

水さしに入っている水のかさを、L単位で表しましょう。



答え 2.02L



答え 1.37L

