



# 小数の表し方4

◎ 水のかさをぬる

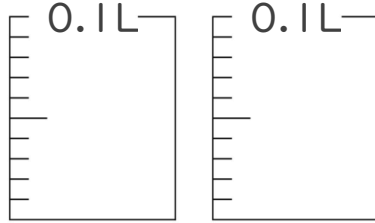
14

日にち： 月 日

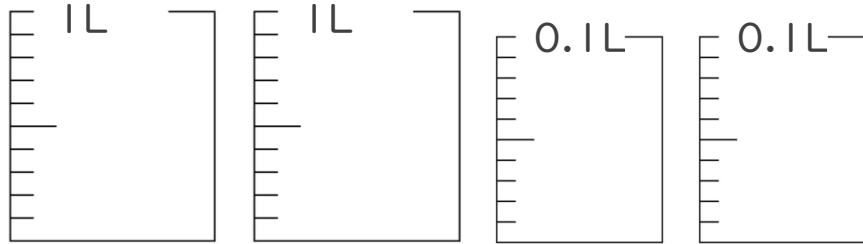
名まえ

1. 次の水のかさの分だけ色をぬりましょう。

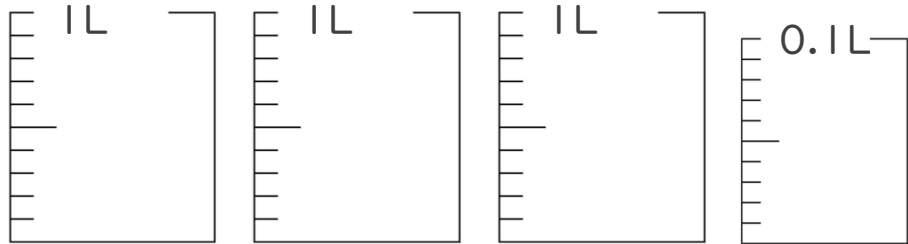
① 0.17 L



② 2.13 L

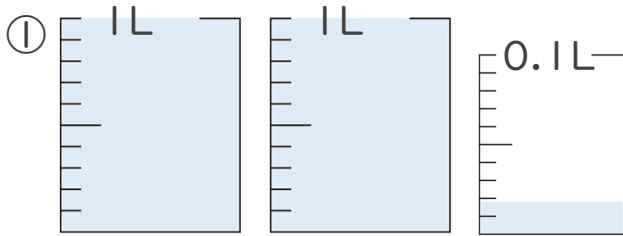


③ 3.08 L

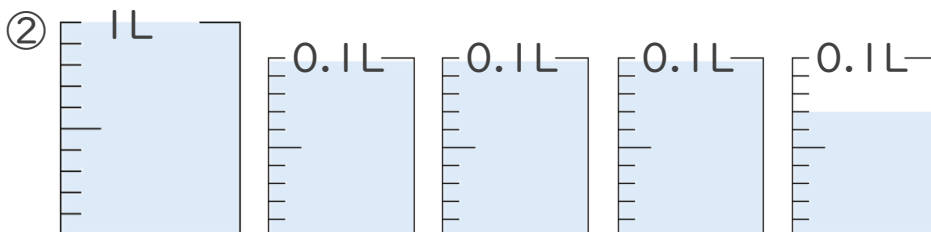


2. 1L入る水さしと、0.1L入る水さしがあります。

水さしに入っている水のかさを、L単位で表しましょう。



答え



答え





# 小数の表し方4

◎ 水のかさをぬる

14

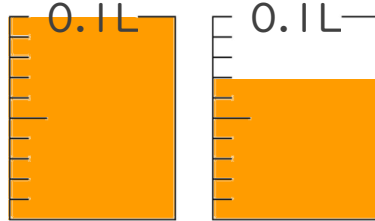
日にち：          月          日

名まえ

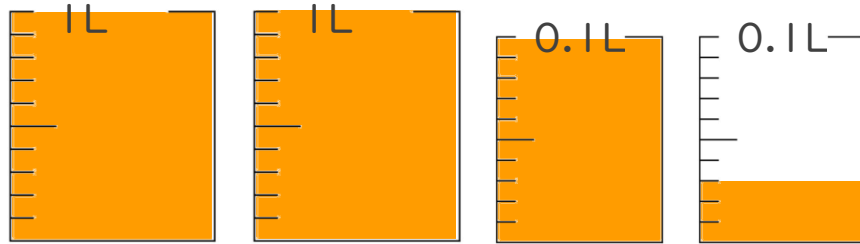
---

1. 次の水のかさの分だけ色をぬりましょう。

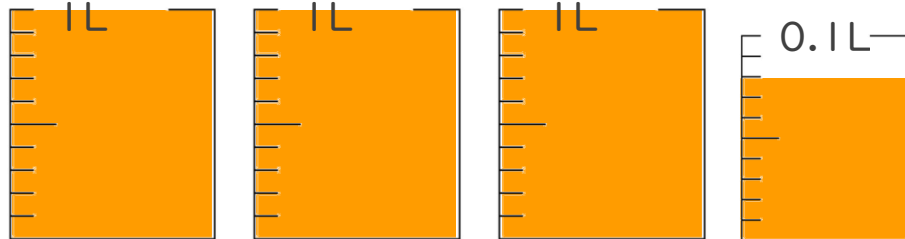
① 0.17 L



② 2.13 L

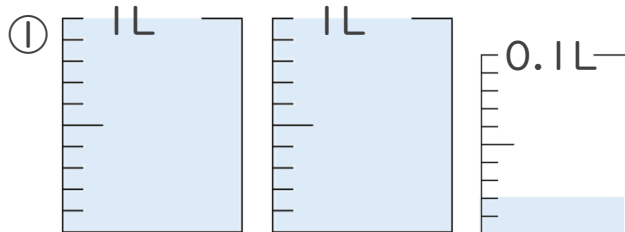


③ 3.08 L

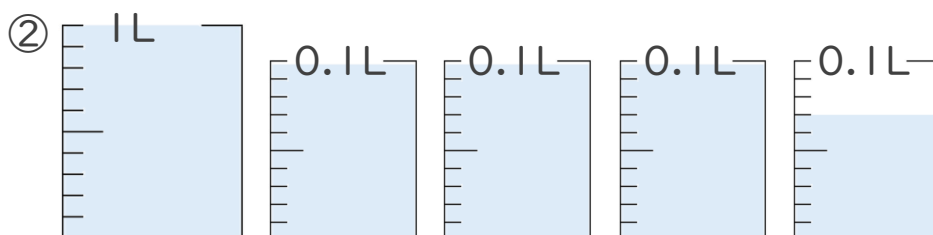


2. 1L入る水さしと、0.1L入る水さしがあります。

水さしに入っている水のかさを、L単位で表しましょう。



答え 2.02L



答え 1.37L

