

分数 (分数の表し方) ①

真分数・帯分数・仮分数とは

14

日にち： 月 日

名まえ

1 次の分数は、真分数、仮分数、帯分数のどれですか。

① $2\frac{7}{10}$

② $\frac{13}{6}$

③ $\frac{1}{4}$

④ $\frac{8}{5}$

⑤ $\frac{7}{6}$

⑥ $\frac{3}{8}$

答え： ①

②

③

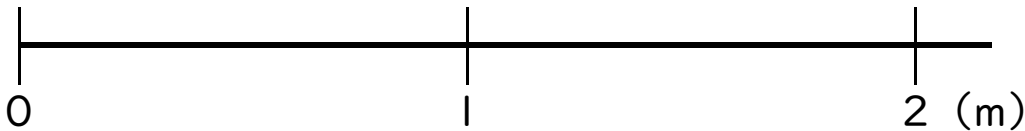
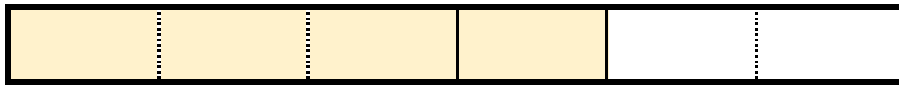
④

⑤

⑥

2 色をぬった部分の長さを、仮分数と帯分数の両方で表しましょう

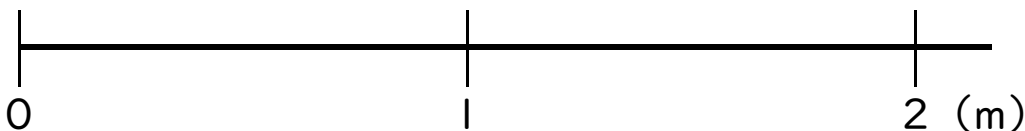
①



答え： 仮分数…

帯分数…

②



答え： 仮分数…

帯分数…





分数 (分数の表し方) ①

真分数・帯分数・仮分数とは

14

日にち： 月 日

名まえ

1 次の分数は、真分数、仮分数、帯分数のどれですか。

① $2\frac{7}{10}$

② $\frac{13}{6}$

③ $\frac{1}{4}$

④ $\frac{8}{5}$

⑤ $\frac{7}{6}$

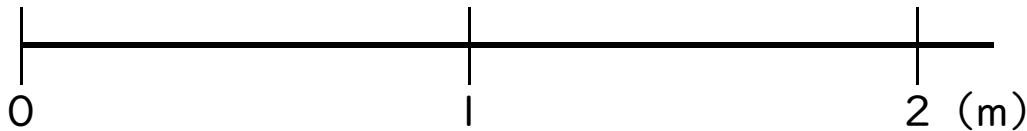
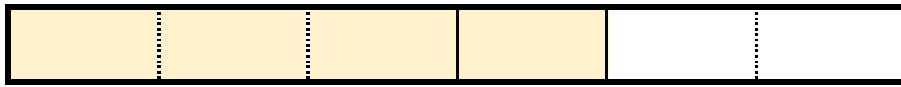
⑥ $\frac{3}{8}$

答え： ① 帯分数 ② 仮分数 ③ 真分数

④ 仮分数 ⑤ 仮分数 ⑥ 真分数

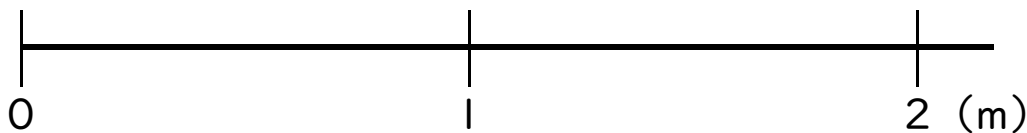
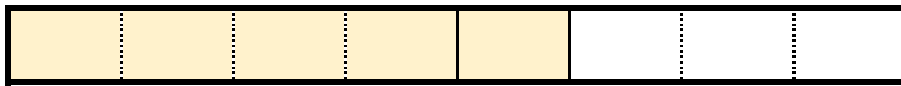
2 色をぬった部分の長さを、仮分数と帯分数の両方で表しましょう

①



答え： 仮分数… $\frac{4}{3}$ 帯分数… $1\frac{1}{3}$

②



答え： 仮分数… $\frac{5}{4}$ 帯分数… $1\frac{1}{4}$

