



面積の  
はかり方と表し方 4

14

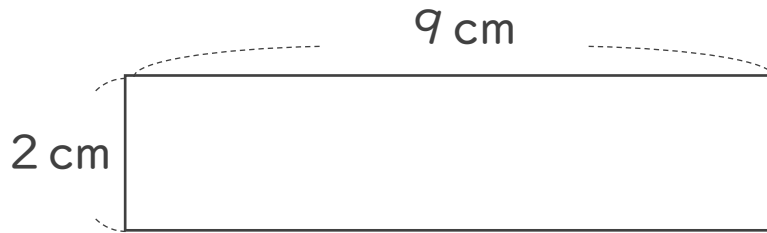
● 長方形や正方形の面積

日にち：            月            日

名まえ \_\_\_\_\_

・ 次の長方形や正方形の面積は何 $\text{cm}^2$ ですか。

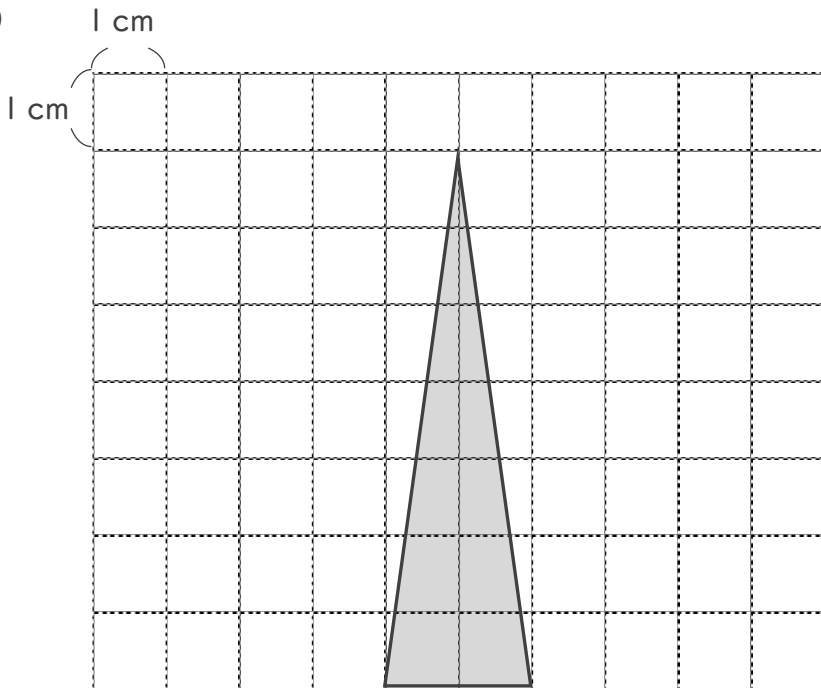
①



式：

答え： \_\_\_\_\_

②



答え： \_\_\_\_\_



面積の  
はかり方と表し方 4

14

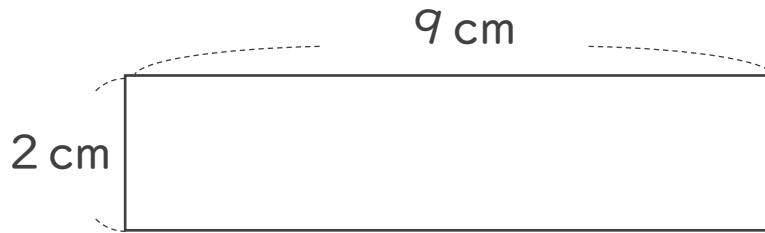
◎ 長方形や正方形の面積

日にち：            月            日

名まえ \_\_\_\_\_

・ 次の長方形や正方形の面積は何 $\text{cm}^2$ ですか。

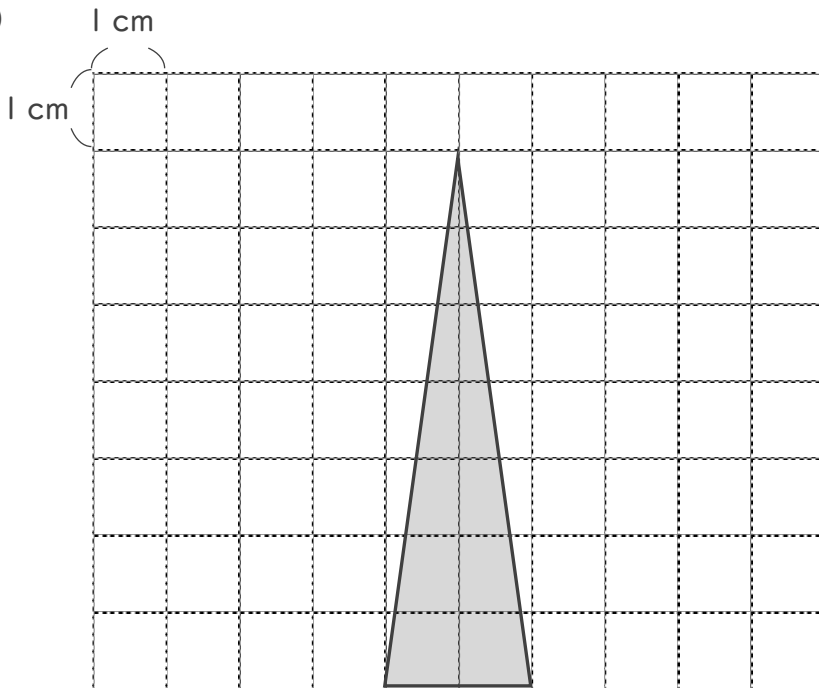
①



式：  $2 \times 9 = 18$

答え： 18  $\text{cm}^2$

②



答え： 7  $\text{cm}^2$

