

# 小数の表し方3

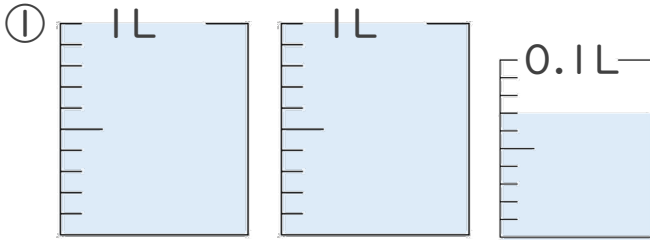
◎ 0.01を何こ?

14

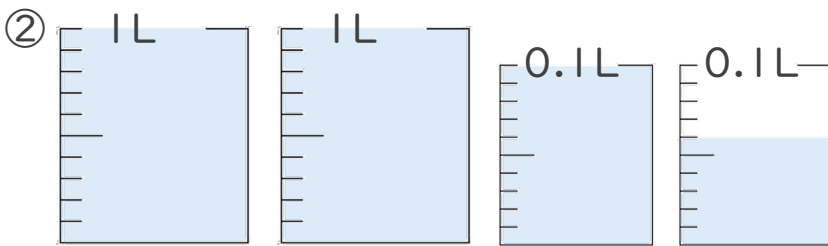
日にち： 月 日

名まえ \_\_\_\_\_

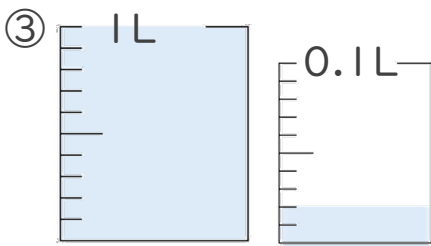
1. 1L入る水さしと、0.1L入る水さしがあります。  
水さしに入っている水のかさを、L単位で表しましょう。



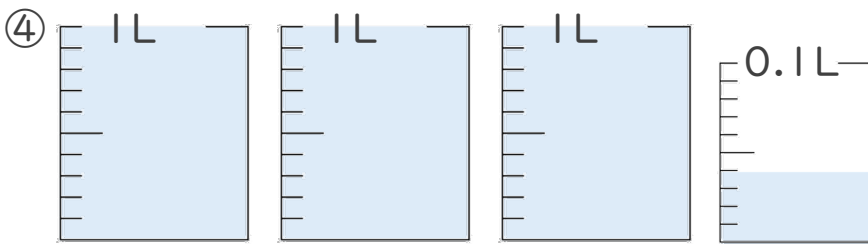
答え \_\_\_\_\_



答え \_\_\_\_\_



答え \_\_\_\_\_



答え \_\_\_\_\_

2. 次の問いに答えましょう。

① 0.17 L は 0.01 L を何こ集めたかさですか？

答え \_\_\_\_\_

② 0.3 L は 0.01 L を何こ集めたかさですか？

答え \_\_\_\_\_





# 小数の表し方3

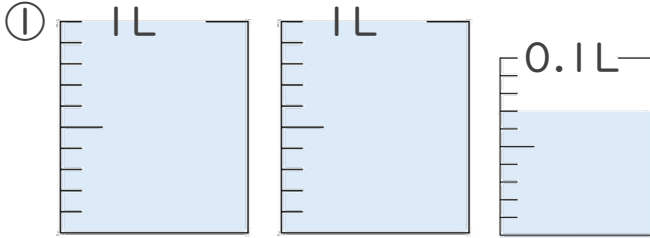
◎ 0.01を何こ？

14

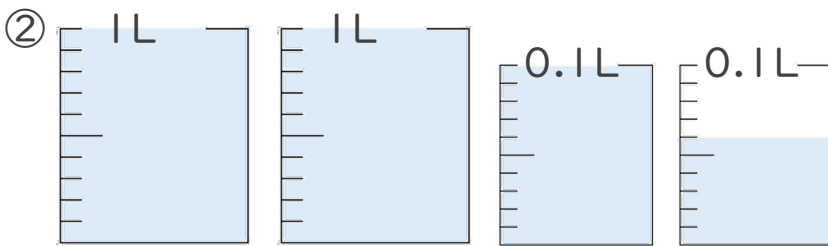
日にち： 月 日

名まえ \_\_\_\_\_

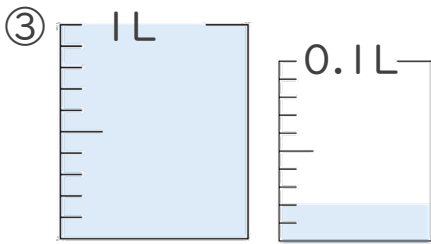
1. 1L入る水さしと、0.1L入る水さしがあります。  
水さしに入っている水のかさを、L単位で表しましょう。



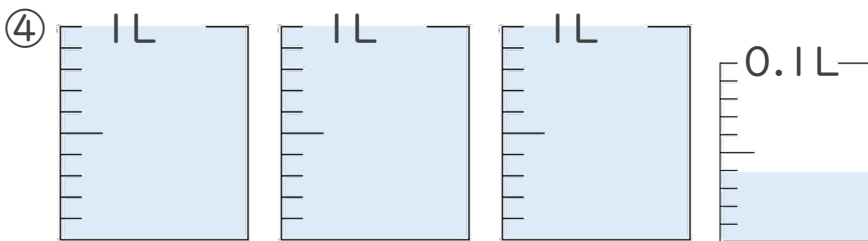
答え 2.07L



答え 2.16L



答え 1.02L



答え 3.04L

2. 次の問いに答えましょう。

① 0.17 L は 0.01 L を何こ集めたかさですか？

答え 17こ

② 0.3 L は 0.01 L を何こ集めたかさですか？

答え 30こ

