



小数のしくみ7

◎ 6より0.03小さい数



日にち： 月 日

名まえ

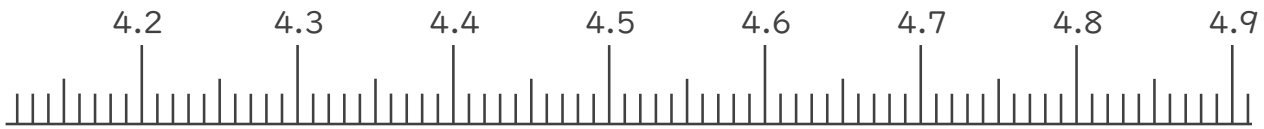
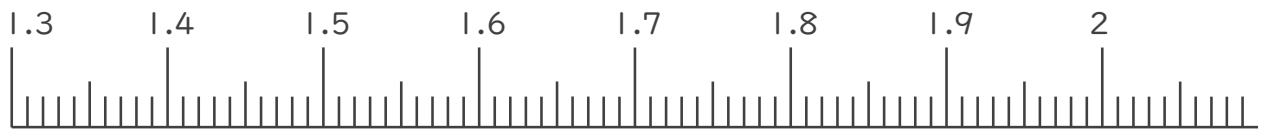
1. 下の数直線で、ア～エの数を表すめもりに ↑ をかきましょう。
また、 ↑ の下にア～エの記号とその数をかきましょう。

ア 1.5より0.02小さい数

イ 2より0.05大きい数

ウ 4.3より0.04小さい数

エ 4.6より0.03大きい数



2. 次の数はいくつですか。

① 7と0.24をあわせた数

答え

② 1を3こ、0.1を9こ、0.01を8こあわせた数

答え

③ 0.01を17こ集めた数

答え





小数のしくみ7

◎ 6より0.03小さい数

14

日にち： 月 日

名まえ

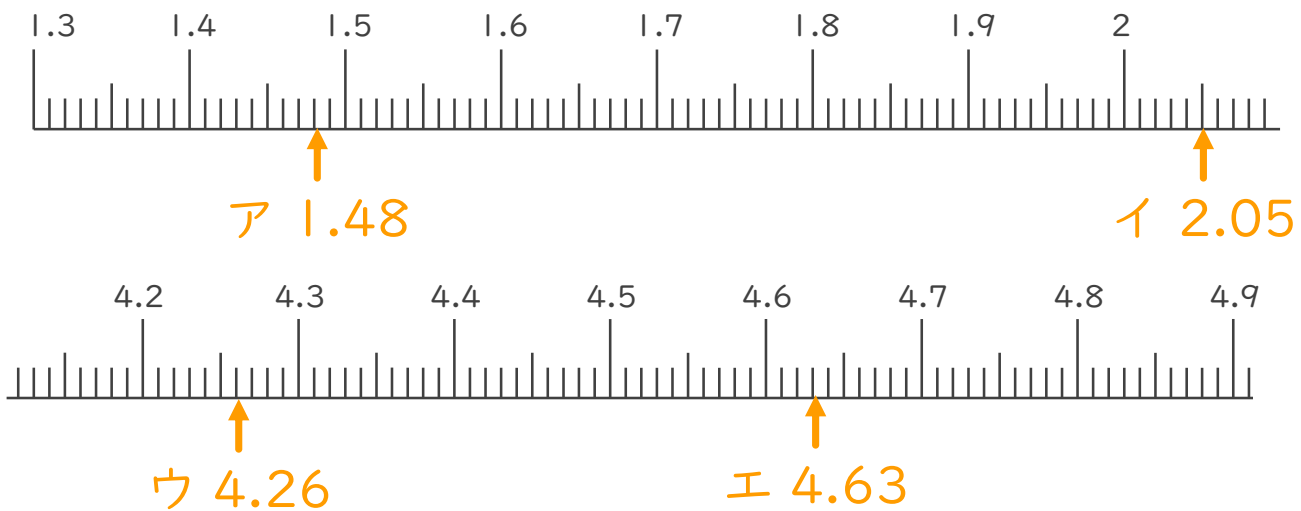
1. 下の数直線で、ア～エの数を表すめもりに↑をかきましょう。
また、↑の下にア～エの記号とその数をかきましょう。

ア 1.5より0.02小さい数

イ 2より0.05大きい数

ウ 4.3より0.04小さい数

エ 4.6より0.03大きい数



2. 次の数はいくつですか。

① 7と0.24をあわせた数

答え 7.24

② 1を3こ、0.1を9こ、0.01を8こあわせた数

答え 3.98

③ 0.01を17こ集めた数

答え 0.17

