



角の大きさ 7

● 180° から
引いて求める角度

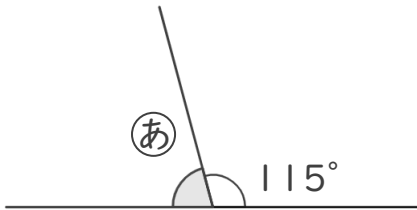


日にち： 月 日

名まえ _____

・ ① の角度を、計算で求めましょう。

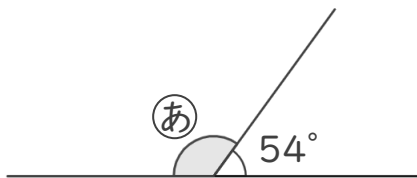
①



式：

答え（ ）

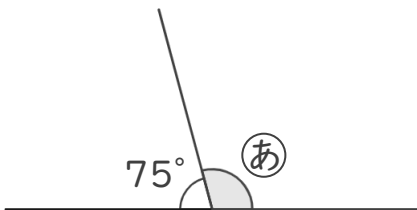
②



式：

答え（ ）

③



式：

答え（ ）

④



式：

答え（ ）





角の大きさ 7

● 180° から
引いて求める角度

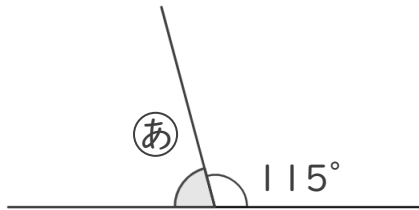
14

日にち： 月 日

名まえ _____

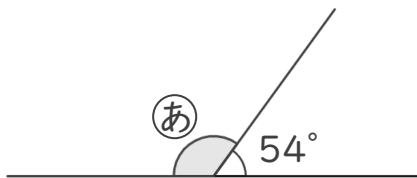
・ ①の角度を、計算で求めましょう。

①



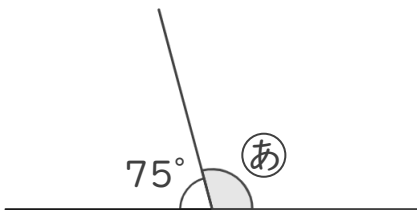
式： $180^\circ - 115^\circ = 65^\circ$ 答え (65°)

②



式： $180^\circ - 54^\circ = 126^\circ$ 答え (126°)

③



式： $180^\circ - 75^\circ = 105^\circ$ 答え (105°)

④



式： $180^\circ - 127^\circ = 53^\circ$ 答え (53°)

