



垂直、平行と  
四角形2

14

2直線と垂直

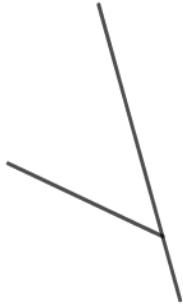
日にち：            月            日

名まえ

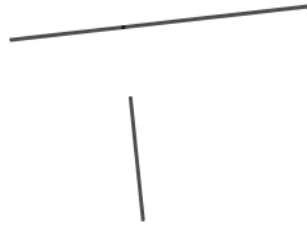
---

・次の図で、2本の直線が垂直であるものを㉠～㉧の中から全て  
選びましょう。

㉠



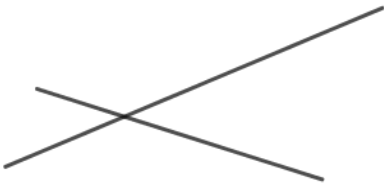
㉡



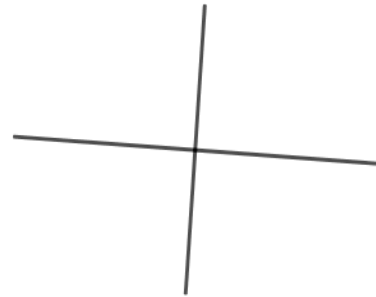
㉢



㉣



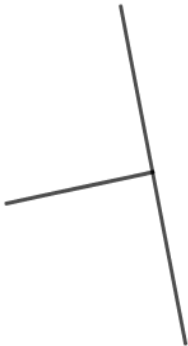
㉤



㉥



㉦



㉧



㉨



答え：

---





# 垂直, 平行と 四角形 2

# 14

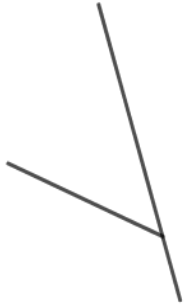
2直線と垂直

日にち：            月            日

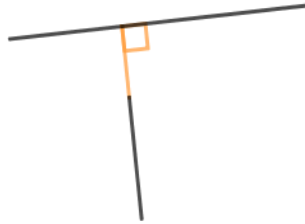
名まえ \_\_\_\_\_

・ 次の図で、2本の直線が垂直であるものを㉠～㉧の中から全て  
選びましょう。

㉠



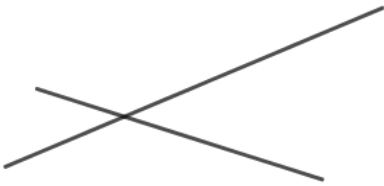
㉡



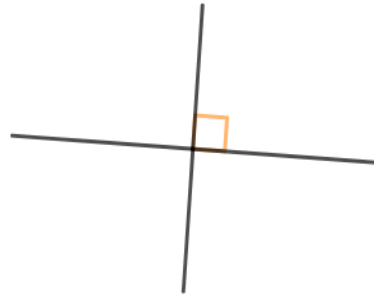
㉢



㉣



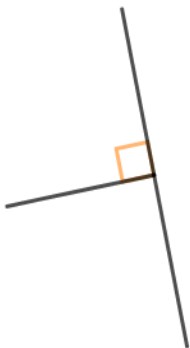
㉤



㉥



㉦



㉧



㉨



答え：

㉡, ㉤, ㉦

