



角の大きさ 9

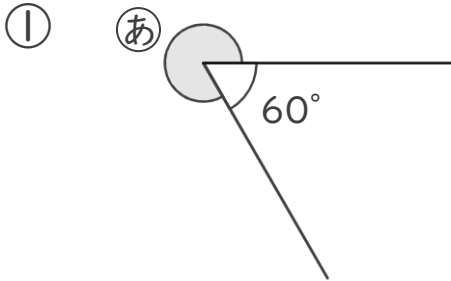
● 360° から
引いて求める角度



日にち： 月 日

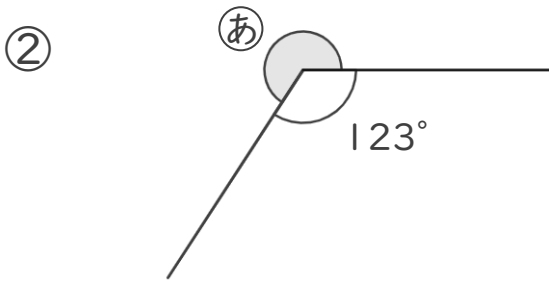
名まえ _____

・ ①の角度を、計算で求めましょう。



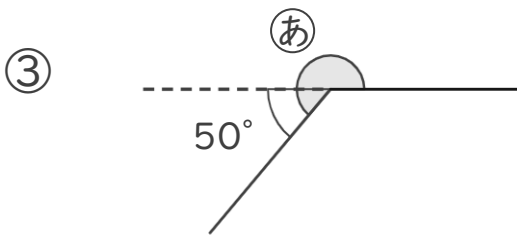
式：

答え（ ）



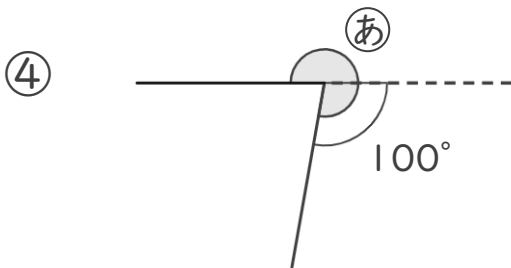
式：

答え（ ）



式：

答え（ ）



式：

答え（ ）





角の大きさ 9

● 360° から
引いて求める角度

14

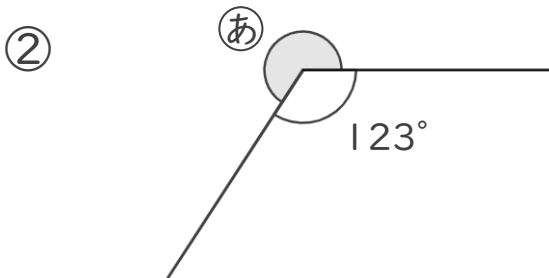
日にち： 月 日

名まえ _____

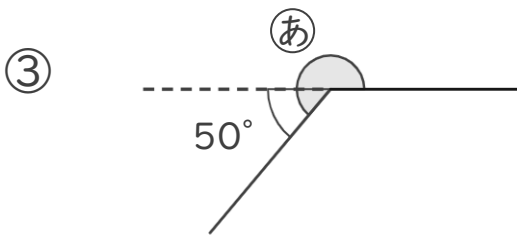
・ ①の角度を、計算で求めましょう。



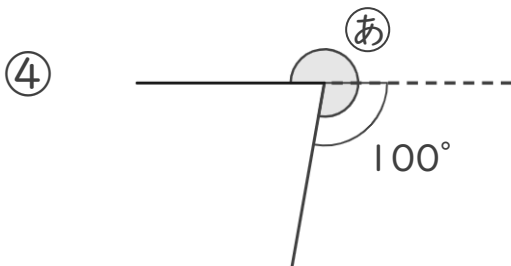
式： $360^\circ - 60^\circ = 300^\circ$ 答え (300°)



式： $360^\circ - 123^\circ = 237^\circ$ 答え (237°)



式： $180^\circ + 50^\circ = 230^\circ$ 答え (230°)



式： $180^\circ + 100^\circ = 280^\circ$ 答え (280°)

