

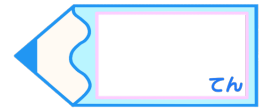


小数のわり算 16

● あまりを求める
(商が帯小数)

15

目指せ80点!



名まえ

・ 次の筆算をしましょう。商は小数第一位まで求め、あまりもだしましょう。

(各10点)

① $8.7 \div 6$

② $6.7 \div 4$

③ $9.4 \div 7$

④ $6.3 \div 2$

⑤ $9.5 \div 8$


⑥ $5.2 \div 3$


⑦ $6.3 \div 4$

⑧ $7.9 \div 4$

⑨ $2.3 \div 4$

⑩ $3.6 \div 7$





小数のわり算 16

● あまりを求める
(商が帯小数)

15

目指せ80点!



名まえ

・ 次の筆算をしましょう。商は小数第一位まで求め、あまりもだしましょう。

(各10点)

① $8.7 \div 6$

	1.4
6	8.7
6	
27	
24	
0.3	

② $6.7 \div 4$

	1.6
4	6.7
4	
27	
24	
0.3	

③ $9.4 \div 7$

	1.3
7	9.4
7	
24	
21	
0.3	

④ $6.3 \div 2$

	3.1
2	6.3
6	
	3
	2
0.1	

⑤ $9.5 \div 8$

	1.1
8	9.5
8	
15	
	8
0.7	

⑥ $5.2 \div 3$

	1.7
3	5.2
3	
22	
21	
0.1	

⑦ $6.3 \div 4$

	1.5
4	6.3
4	
23	
20	
0.3	

⑧ $7.9 \div 4$

	1.9
4	7.9
4	
39	
36	
0.3	

⑨ $2.3 \div 4$

	0.5
4	2.3
20	
0.3	

⑩ $3.6 \div 7$

	0.5
7	3.6
35	
0.1	

