




小数のわり算 16

● あまりを求める
(商が帯小数)

15

目指せ80点!



名まえ

・ 次の筆算をしましょう。商は小数第一位まで求め、あまりもだしましょう。
(各10点)

① $8.7 \div 6$

② $6.7 \div 4$

③ $9.4 \div 7$

④ $6.3 \div 2$

⑤ $9.5 \div 8$


⑥ $5.2 \div 3$

⑦ $6.3 \div 4$

⑧ $7.9 \div 4$

⑨ $2.3 \div 4$

⑩ $3.6 \div 7$






小数のわり算 16

● あまりを求める
(商が帯小数)

15

目指せ80点!



名まえ

・ 次の筆算をしましょう。商は小数第一位まで求め、あまりもだしましょう。
(各10点)

① $8.7 \div 6$

$$\begin{array}{r}
 1.4 \\
 6 \overline{) 8.7} \\
 \underline{6} \\
 27 \\
 \underline{24} \\
 0.3
 \end{array}$$

② $6.7 \div 4$

$$\begin{array}{r}
 1.6 \\
 4 \overline{) 6.7} \\
 \underline{4} \\
 27 \\
 \underline{24} \\
 0.3
 \end{array}$$

③ $9.4 \div 7$

$$\begin{array}{r}
 1.3 \\
 7 \overline{) 9.4} \\
 \underline{7} \\
 24 \\
 \underline{21} \\
 0.3
 \end{array}$$

④ $6.3 \div 2$

$$\begin{array}{r}
 3.1 \\
 2 \overline{) 6.3} \\
 \underline{6} \\
 3 \\
 \underline{2} \\
 0.1
 \end{array}$$

⑤ $9.5 \div 8$

$$\begin{array}{r}
 1.1 \\
 8 \overline{) 9.5} \\
 \underline{8} \\
 15 \\
 \underline{8} \\
 0.7
 \end{array}$$

⑥ $5.2 \div 3$

$$\begin{array}{r}
 1.7 \\
 3 \overline{) 5.2} \\
 \underline{3} \\
 22 \\
 \underline{21} \\
 0.1
 \end{array}$$

⑦ $6.3 \div 4$

$$\begin{array}{r}
 1.5 \\
 4 \overline{) 6.3} \\
 \underline{4} \\
 23 \\
 \underline{20} \\
 0.3
 \end{array}$$

⑧ $7.9 \div 4$

$$\begin{array}{r}
 1.9 \\
 4 \overline{) 7.9} \\
 \underline{4} \\
 39 \\
 \underline{36} \\
 0.3
 \end{array}$$

⑨ $2.3 \div 4$

$$\begin{array}{r}
 0.5 \\
 4 \overline{) 2.3} \\
 \underline{20} \\
 0.3
 \end{array}$$

⑩ $3.6 \div 7$

$$\begin{array}{r}
 0.5 \\
 7 \overline{) 3.6} \\
 \underline{35} \\
 0.1
 \end{array}$$

