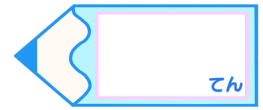


# 小数のわり算21

●わり進み  
(帯小数を1桁の整数でわる)

15

目指せ80点!



名まえ

・ 次の計算をわりきれぬまでしましょう。(各20点)


①  $6.3 \div 6$



②  $18 \div 8$




③  $2.2 \div 5$



④  $48 \div 15$



⑤  $7.4 \div 4$



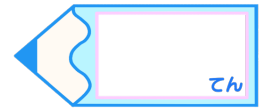


# 小数のわり算21

わり進み  
(帯小数を1桁の整数でわる)

15

目指せ80点!



名まえ

次の計算をわりきれぬまでしましょう。(各20点)

①  $6.3 \div 6$

		1	.	0	5
6	)	6	.	3	0
		6			
				3	0
				3	0
					0

②  $18 \div 8$

			2	.	2	5
8	)	1	8	.	0	0
		1	6			
				2	0	
				1	6	
					4	0
					4	0
						0

③  $2.2 \div 5$

		0	.	4	4
5	)	2	.	2	0
		2	0		
				2	0
				2	0
					0

④  $48 \div 15$

			3	.	2
1	5	)	4	8	0
		4	5		
				3	0
				3	0
					0

⑤  $7.4 \div 4$

		1	.	8	5	
4	)	7	.	4	0	
		4				
				3	4	
				3	2	
					2	0
					2	0
						0

