

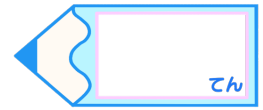


小数のわり算20

わり進み
(整数を2桁の整数でわる)

15

目指せ80点!



名まえ

・ 次の計算をわりきれぬまでしましょう。(各20点)


① $54 \div 12$




② $63 \div 35$





③ $1 \div 25$



④ $34 \div 5$



⑤ $2 \div 8$



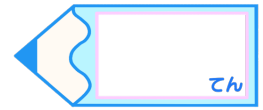


小数のわり算20

わり進み
(整数を2桁の整数でわる)

15

目指せ80点!



名まえ

・ 次の計算をわりきれぬまでしましょう。(各20点)

① $54 \div 12$

			4.5
1	2)	54.0
			480
			60
			60
			0

② $63 \div 35$

			1.8
3	5)	63.0
			350
			280
			280
			0

③ $1 \div 25$

			0.04
2	5)	1.00
			100
			0

④ $34 \div 5$

			6.8
5)		34.0
			300
			40
			40
			0

⑤ $2 \div 8$

			0.25
8)		2.00
			16
			40
			40
			0

