



小数のわり算 18

○わり進み
(1桁の整数 ÷ 1桁の整数)

15


目指せ80点!




名まえ

・ 次の計算をわりきれぬまでしましょう。(各20点)


① $8.61 \div 3$



② $5 \div 4$




③ $2 \div 8$




④ $9.96 \div 6$



⑤ $6 \div 8$



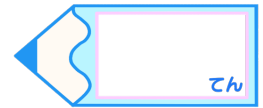


小数のわり算 18

わり進み
(1桁の整数 ÷ 1桁の整数)

15

目指せ80点!



名まえ

次の計算をわりきれぬまでしましょう。(各20点)

① $8.61 \div 3$

	2	.	8	7	
3)	8	.	6	1
		6			
		2	6		
		2	4		
			2	1	
			2	1	
				0	

② $5 \div 4$

	1	.	2	5	
4)	5	.	0	0
		4			
		1	0		
			8		
			2	0	
			2	0	
				0	

③ $2 \div 8$

	0	.	2	5	
8)	2	.	0	0
		1	6		
			4	0	
			4	0	
				0	

④ $9.96 \div 6$

	1	.	6	6	
6)	9	.	9	6
		6			
		3	9		
		3	6		
			3	6	
			3	6	
				0	

⑤ $6 \div 8$

	0	.	7	6	
8)	6	.	2	2
		5	6		
			4	2	
			4	2	
				0	

