

# 小数のわり算 19

わり進み  
(2桁の整数 ÷ 1桁の整数)

15

目指せ80点!




名まえ

・ 次の計算をわりきれぬまでしましょう。(各20点)


①  $22 \div 8$



②  $29 \div 4$




③  $39 \div 6$



④  $17 \div 4$



⑤  $2 \div 8$



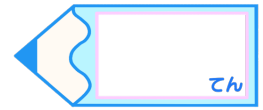


# 小数のわり算 19

● わり進み  
(2桁の整数 ÷ 1桁の整数)

# 15

目指せ80点!



名まえ

・ 次の計算をわりきれぬまでしましょう。(各20点)

①  $22 \div 8$

		2	.	7	5	
8	)	2	2	.	0	0
		1	6			
		6	0			
		5	6			
		4	0			
		4	0			
			0			

②  $29 \div 4$

		7	.	2	5	
4	)	2	9	.	0	0
		2	8			
		1	0			
			8			
			2	0		
			2	0		
				0		

③  $39 \div 6$

		6	.	5	
6	)	3	9	.	0
		3	6		
			3	0	
			3	0	
				0	

④  $17 \div 4$

		4	.	2	5	
4	)	1	7	.	0	0
		1	6			
			1	0		
			8			
			2	0		
			2	0		
				0		

⑤  $2 \div 8$

		0	.	2	5
8	)	2	.	0	0
		1	6		
			4	0	
			4	0	
				0	

