



小数のわり算 21

◎わり進み
(帯小数を1けたの整数でわる)

15

目指せ80点!



名まえ

・ 次の計算をわりきれぬまでしましょう。(各20点)


① $6.3 \div 6$




② $18 \div 8$




③ $2.2 \div 5$



④ $48 \div 15$



⑤ $7.4 \div 4$





小数のわり算 21

◎わり進み
(帯小数を1けたの整数でわる)

15

目指せ80点!



名まえ

・ 次の計算をわりきれぬまでしましょう。(各20点)

① $6.3 \div 6$

	1	0	5
6	6	3	0
	6		
		3	0
		3	0
			0

② $18 \div 8$

		2	2	5
8	1	8	0	0
	1	6		
		2	0	
		1	6	
			4	0
			4	0
				0

③ $2.2 \div 5$

	0	4	4
5	2	2	0
	2	0	
		2	0
		2	0
			0

④ $48 \div 15$

		3	2
15	4	8	0
	4	5	
		3	0
		3	0
			0

⑤ $7.4 \div 4$

		1	8	5
4	7	4	0	
	4			
		3	4	
		3	2	
			2	0
			2	0
				0

