




小数のわり算 20

● わり進み
(整数を2けたの整数でわる)

15

目指せ80点!



名まえ

・ 次の計算をわりきれるまでしましょう。(各20点)


① $54 \div 12$



② $63 \div 35$






③ $1 \div 25$



④ $34 \div 5$



⑤ $2 \div 8$





小数のわり算 20

●わり進み
(整数を2けたの整数でわる)

15

目指せ80点!



名まえ

・ 次の計算をわりきれるまでしましょう。(各20点)

① $54 \div 12$

			4	5	
1	2)	5	4	0
			4	8	0
			6	0	
			6	0	
			0		

② $63 \div 35$

			1	8	
3	5)	6	3	0
			3	5	0
			2	8	0
			2	8	0
			0		

③ $1 \div 25$

			0	0	4
2	5)	1	0	0
			1	0	0
					0

④ $34 \div 5$

			6	8
5)	3	4	0
		3	0	0
			4	0
			4	0
			0	

⑤ $2 \div 8$

			0	2	5
8)	2	0	0	
		1	6		
			4	0	
			4	0	
			0		

