




面積の  
はかり方と表し方 3

15

◎ マス目で数える三角形の面積

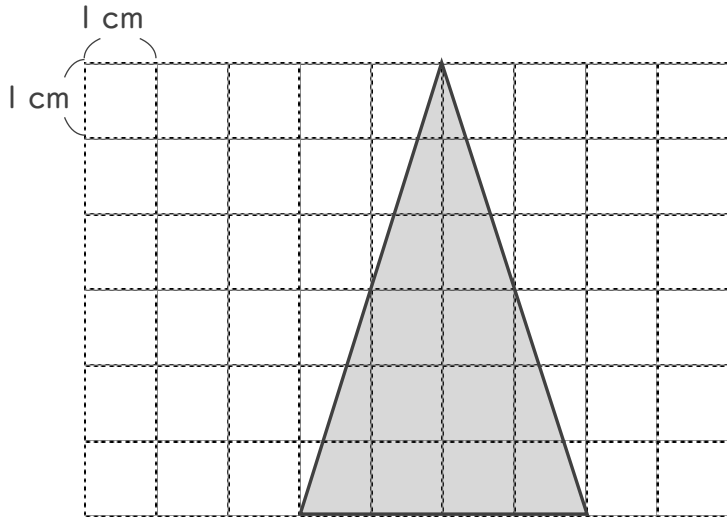
目指せ100点!



名まえ

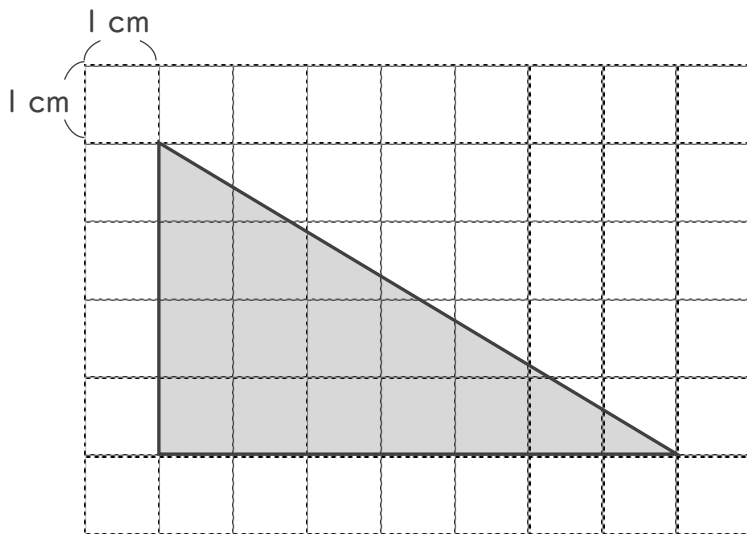
・ 次の図形は1マスが $1\text{ cm}^2$ です。次の図形の面積を求めなさい。(各50点)

①



答え：

②



答え：



面積の  
はかり方と表し方 3

15

◎ マス目で数える三角形の面積

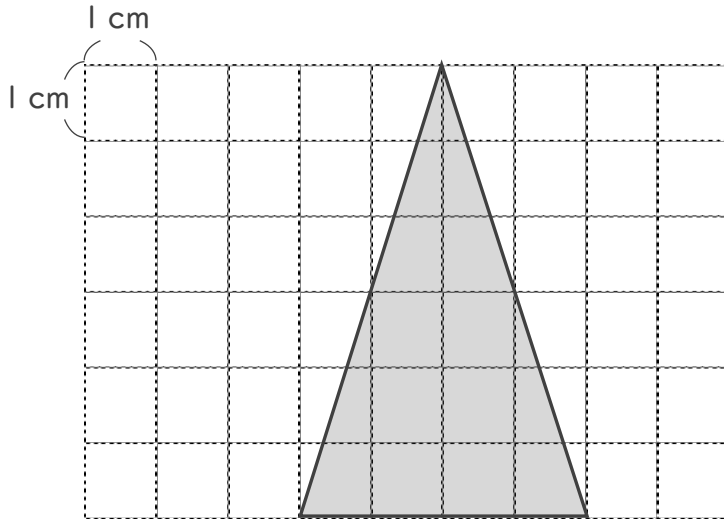
目指せ100点!



名まえ

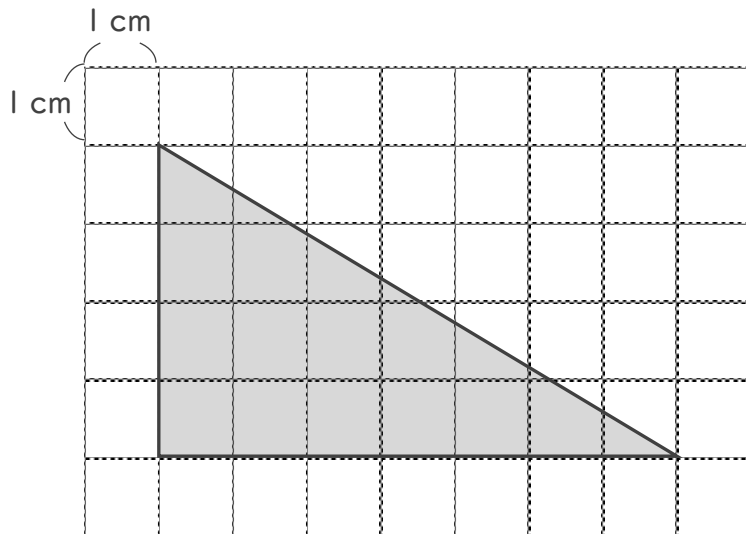
・ 次の図形は1マスが1 cm<sup>2</sup>です。次の図形の面積を求めなさい。(各50点)

①



答え： 12 cm<sup>2</sup>

②



答え： 14 cm<sup>2</sup>