


小数のたし算とひき算5

◎位の揃った小数のひき算

15

目指せ80点!



名まえ

・ 次の計算をなさい。(各10点)

①

	5	.	2	8
-	1	.	3	3
<hr/>				

②

	4	.	3	9	3
-	1	.	9	0	6
<hr/>					

③

	4	5	.	7	2
-		3	.	9	7
<hr/>					

④

	3	.	8	3
-	0	.	2	7
<hr/>				

⑤

	6	.	2	8
-	2	.	0	9
<hr/>				

⑥

	4	.	5	6	9
-	1	.	6	0	1
<hr/>					


⑦ $12 + 5.413$

⑧ $3.73 + 2.27$

⑨ $31.5 + 3.5$

⑩ $1.948 + 3.052$






小数のたし算とひき算5

◎位の揃った小数のひき算

15

目指せ80点!



名まえ

・ 次の計算をしなさい。(各10点)

①

	5	2	8
-	1	3	3
<hr/>			
	3	9	5

②

	4	3	9	3
-	1	9	0	6
<hr/>				
	2	4	8	7

③

	4	5	7	2
-		3	9	7
<hr/>				
	4	1	7	5

④

	3	8	3
-	0	2	7
<hr/>			
	3	5	6

⑤

	6	2	8
-	2	0	9
<hr/>			
	4	1	9

⑥

	4	5	6	9
-	1	6	0	1
<hr/>				
	2	9	6	8

⑦ 12 + 5.413

	1	2			
+		5	4	1	3
<hr/>					
	1	7	4	1	3

⑧ 3.73 + 2.27

	3	7	3
+	2	2	7
<hr/>			
	6	0	0

⑨ 31.5 + 3.5

	3	1	5
+		3	5
<hr/>			
	3	5	0

⑩ 1.948 + 3.052

	1	9	4	8
+	3	0	5	2
<hr/>				
	5	0	0	0

