

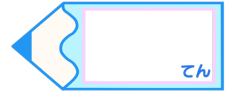


# 小数のわり算4

● 十の位に商がたたない  
小数÷整数

# 15

目指せ80点!



名まえ

・ 次の計算をしなさい。(各10点)

①  $3 \overline{) 10.2}$

②  $8 \overline{) 51.2}$

③  $7 \overline{) 44.1}$

④  $4 \overline{) 15.2}$

⑤  $69.6 \div 6$



⑥  $36.8 \div 4$

⑦  $23.5 \div 5$

⑧  $58.4 \div 8$

⑨  $88.9 \div 7$

⑩  $88.5 \div 3$






# 小数のわり算4

● 十の位に商がたたない  
小数÷整数

15

目指せ80点!



名まえ

・ 次の計算をしなさい。(各10点)

①

		3.4	
3	)	10.2	
		9	
		12	
		12	
		0	

②

		6.4	
8	)	51.2	
		48	
		32	
		32	
		0	

③

		6.3	
7	)	44.1	
		42	
		21	
		21	
		0	

④

		3.8	
4	)	15.2	
		12	
		32	
		32	
		0	

⑤  $69.6 \div 6$

		11.6	
6	)	69.6	
		6	
		9	
		6	
		36	
		36	
		0	

⑥  $36.8 \div 4$

		9.2	
4	)	36.8	
		36	
		8	
		8	
		0	

⑦  $23.5 \div 5$

		4.7	
5	)	23.5	
		20	
		35	
		35	
		0	

⑧  $58.4 \div 8$

		7.3	
8	)	58.4	
		56	
		24	
		24	
		0	

⑨  $88.9 \div 7$

		12.7	
7	)	88.9	
		7	
		18	
		14	
		49	
		49	
		0	

⑩  $88.5 \div 3$

		29.5	
3	)	88.5	
		6	
		28	
		27	
		15	
		15	
		0	

