


小数のたし算とひき算 I

◎位の揃った小数のたし算

15

目指せ80点!



名まえ

・ 次の計算をしなさい。(各10点)

①

	5	.	9	4
+	0	.	2	4
<hr/>				

②

	4	.	2	5
+	2	.	5	9
<hr/>				

③

	5	.	0	7	3
+	2	.	0	4	6
<hr/>					

④

	3	.	6	1
+	2	.	0	3
<hr/>				

⑤

	4	.	7	1	5
+	1	.	0	9	1
<hr/>					

⑥


	5	.	5	3	8
+	0	.	4	6	9
<hr/>					

⑦ 1.386 + 4.253

⑧ 6.12 + 2.87

⑨ 2.026 + 6.415

⑩ 1.55 + 6.77




小数のたし算とひき算 I

◎位の揃った小数のたし算

15

目指せ80点!



名まえ

・ 次の計算をなさい。(各10点)

①

	5	.	9	4
+	0	.	2	4
<hr/>				
	6	.	1	8

②

	4	.	2	5
+	2	.	5	9
<hr/>				
	6	.	8	4

③

	5	.	0	7	3
+	2	.	0	4	6
<hr/>					
	7	.	1	1	9

④

	3	.	6	1
+	2	.	0	3
<hr/>				
	5	.	6	4

⑤

	4	.	7	1	5
+	1	.	0	9	1
<hr/>					
	5	.	8	0	6

⑥

	5	.	5	3	8
+	0	.	4	6	9
<hr/>					
	6	.	0	0	7

⑦ 1.386 + 4.253

	1	.	3	8	6
+	4	.	2	5	3
<hr/>					
	5	.	6	3	9

⑧ 6.12 + 2.87

	6	.	1	2
+	2	.	8	7
<hr/>				
	8	.	9	9

⑨ 2.026 + 6.415

	2	0	2	6	
+	6	.	4	1	5
<hr/>					
	8	.	4	4	1

⑩ 1.55 + 6.77

	1	.	5	5
+	6	.	7	7
<hr/>				
	8	.	3	2

