

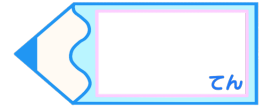


小数のわり算5

●商が小数第一位までの真小数

15

目指せ80点!



名まえ

・ 次の計算をなさい。(①～④各5点 ⑤～⑫各10点)


① $1.2 \div 3 =$

③ $0.8 \div 2 =$

② $1.8 \div 2 =$

④ $1.2 \div 6 =$


⑤ $4.2 \div 7$



⑥ $2.1 \div 3$



⑦ $2.4 \div 8$



⑧ $3.5 \div 5$



⑨ $5.6 \div 7$




⑩ $1.8 \div 3$



⑪ $1.5 \div 3$



⑫ $4.5 \div 9$



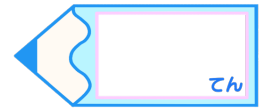


小数のわり算5

● 商が小数第一位までの真小数

15

目指せ80点!



名まえ

・ 次の計算をなさい。(①~④各5点 ⑤~⑫各10点)

① $1.2 \div 3 = 0.4$

③ $0.8 \div 2 = 0.4$

② $1.8 \div 2 = 0.8$

④ $1.2 \div 6 = 0.2$

⑤ $4.2 \div 7$

	0.6
7)4.2
	4 2
	0

⑥ $2.1 \div 3$

	0.7
3)2.1
	2 1
	0

⑦ $2.4 \div 8$

	0.3
8)2.4
	2 4
	0

⑧ $3.5 \div 5$

	0.7
5)3.5
	3 5
	0

⑨ $5.6 \div 7$

	0.8
7)5.6
	5 6
	0

⑩ $1.8 \div 3$

	0.6
3)1.8
	1 8
	0

⑪ $1.5 \div 3$

	0.5
3)1.5
	1 5
	0

⑫ $4.5 \div 9$

	0.5
9)4.5
	4 5
	0

