



# 小数のわり算II

● 商が小数第三位までの真小数

15

目指せ80点!



名まえ

・ 次の計算をしなさい。(各20点)



①  $0.574 \div 7$


②  $0.192 \div 3$


③  $0.76 \div 19$


④  $0.306 \div 51$


⑤  $0.156 \div 6$

すらすらぷりんと

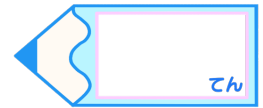


# 小数のわり算II

● 商が小数第三位までの真小数

# 15

目指せ80点!



## 名まえ

・ 次の計算をしなさい。(各20点)

①  $0.574 \div 7$

		0	.	0	8	2
7	)	0	.	5	7	4
				5	6	
					1	4
					1	4
						0

②  $0.192 \div 3$

		0	.	0	6	4
3	)	0	.	1	9	2
				1	8	
					1	2
					1	2
						0

③  $0.76 \div 19$

		0	.	0	4
19	)	0	.	7	6
				7	6
					0

④  $0.306 \div 51$

		0	.	0	0	6
51	)	0	.	3	0	6
				3	0	6
						0

⑤  $0.156 \div 6$

		0	.	0	2	6
6	)	0	.	1	5	6
				1	2	
					3	6
					3	6
						0

